

Profesores: Denisse Pasten, Isidora Caprile, Dany López, Jaime Romero
Ayudantes: Fernando Corvacho, Fernando Vergara, Francisca Villanueva, Pablo Aguilera

Problema 1

En el sistema que se muestra en la figura 1, una fuerza horizontal \vec{F}_x actúa sobre el objeto de masa M . La superficie tiene un coeficiente de roce dinámico μ . Examine la aceleración del objeto deslizando como una función de F_x .

- ¿Para qué valores de F_x el objeto de masa m acelera hacia arriba?
- ¿Para qué valores de F_x la tensión de la cuerda es cero?

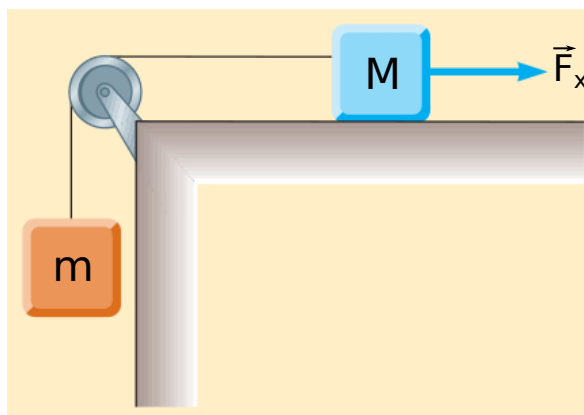


Figura 1



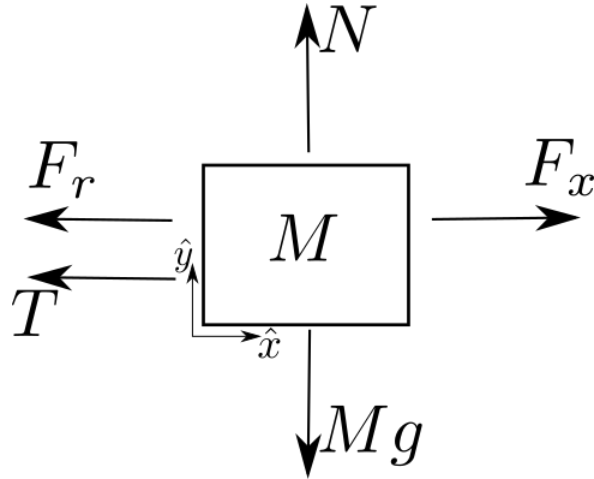
Tarea 1 - Física 1

9 de diciembre de 2019

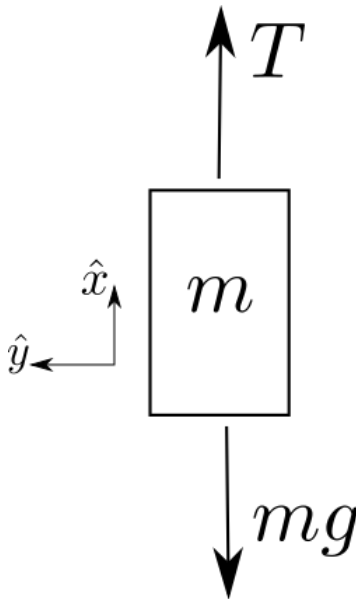
Fecha de entrega:
16 de diciembre de 2019

Solución:

Las fuerzas sobre la masa M se presentan en sus diagrama de cuerpo libre (0.6 pts), donde también se indica el sistema de referencia utilizado (0.2 pts). Sin pérdida de generalidad, en este caso consideramos que la masa M se mueve a la derecha, por lo que la fuerza de roce apunta en el sentido contrario.



Así también las fuerzas sobre la masa m se presentan en sus diagrama de cuerpo libre (0.6 pts). De igual forma, considerando la aceleración para la masa M , la aceleración de m (que es la misma de la de M) debe apuntar hacia arriba.



Tarea 1 - Física 1

9 de diciembre de 2019

Fecha de entrega:
16 de diciembre de 2019

La suma de fuerzas sobre m , queda entonces:

$$\begin{aligned} ma &= T - mg \textbf{(0.6 ptos)} \\ \Rightarrow T &= ma + mg \end{aligned} \quad (1)$$

De igual forma la suma de fuerzas sobre M , para el eje x:

$$\begin{aligned} Ma &= F_x - T - F_r \textbf{(0.6 ptos)} \\ \Rightarrow Ma &= F_x - T - N\mu \end{aligned} \quad (2)$$

mientras que en el eje y:

$$\begin{aligned} 0 &= N - Mg \textbf{(0.6 ptos)} \\ \Rightarrow N &= Mg \end{aligned} \quad (3)$$

Reemplazando N de (3) y T de (1) en la ecuación (2) se tiene:

$$\begin{aligned} Ma &= F_x - ma - mg - M\mu g \\ \Rightarrow a &= \frac{1}{m + M} [F_x - g(m + M\mu)] \textbf{(0.4 ptos)} \end{aligned} \quad (4)$$

Dada la dirección que tomamos para \vec{a} en el comienzo, se tiene que mientras (4) sea positivo, la dirección será consistente con esta elección (y que por lo tanto m suba). Esto se cumple solo si

$$\begin{aligned} 0 &> \frac{1}{m + M} [F_x - g(m + M\mu)] \\ \Rightarrow g(M\mu + m) &> F_x \textbf{(0.4 ptos)} \end{aligned}$$

Por otro lado de (1) se tiene que, cuando $T = 0$ **(0.5 ptos)** lo cual implica que $a = -g$. Imponiendo esta condición en la ecuación (4) se tiene:

$$\begin{aligned} -g &= \frac{1}{m + M} [F_x - g(m + M\mu)] \textbf{(0.5 ptos)} \\ \Rightarrow F_x &= Mg(\mu - 1) \textbf{(0.5 ptos)} \end{aligned}$$

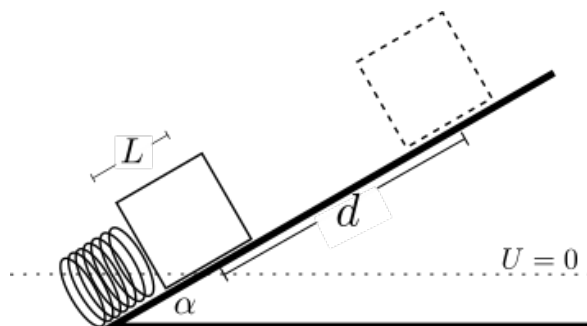
siendo esta la condición sobre F_x para que se cumpla que la tensión sea nula.
(Orden e integración de dominio verbal, matemático y físico **(0.5 ptos)**)

Problema 2

Un bloque de masa m se presiona contra un resorte con una constante de fuerza k hasta que el bloque se comprime un largo L . El resorte descansa en la parte baja de una rampa inclinada en un ángulo α respecto a la horizontal. Mediante consideraciones de energía, determine cuánto se mueve el bloque hacia arriba del plano inclinado antes de detenerse. Considere que no existe roce entre la masa y la rampa.

Solución:

En el siguiente diagrama se presenta el problema, junto con la altura de referencia para el cero de la energía potencial U (**0.5 pts diagrama y 0.5 pts sist. de ref.**). Además d es la distancia que recorre el bloque sobre el plano antes de detenerse.



Debido a que no existen fuerzas disipativas de energía, la energía E_i antes de soltar el bloque y la energía E_f una vez que llega arriba son iguales.

$$E_i = E_f$$

$$\text{ó } \Delta E = 0$$

(1.0 pto, argumentación cons. energía)

En el instante inicial el bloque solo tendrá energía potencial elástica $U_e = \frac{1}{2}kL^2$ (**1.0 pto**) debido al resorte, mientras que en el instante final se tendrá que el bloque solo tendrá energía potencial gravitatoria $U = mgdh$ (**1.0 pto**) debido a que se eleva una altura $h = d \sin \alpha$ (**1.0 pto**) y llega sin velocidad hasta ese punto. De esta forma por conservación de energía:

$$E_i = E_f$$

$$U_e = U$$

$$\frac{1}{2}kL^2 = mgd \sin \alpha$$

$$\Rightarrow d = \frac{kL^2}{2 \sin \alpha mg} \text{ (0.5 pts)}$$

(Orden e integración de dominio verbal, matemático y físico (**0.5 pts**))