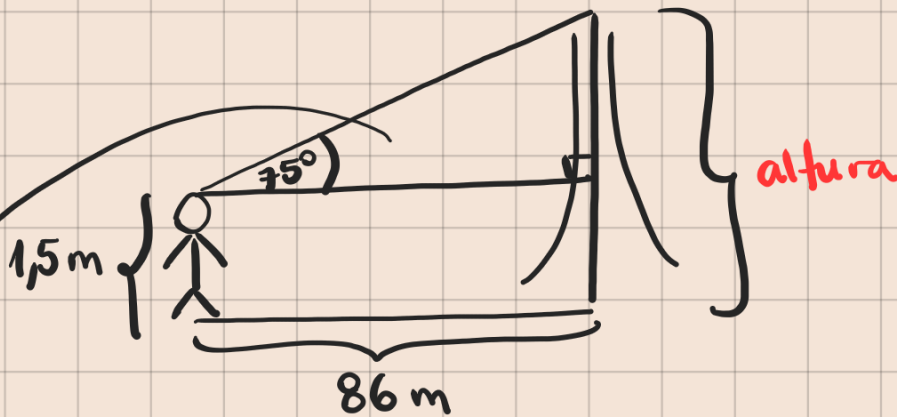
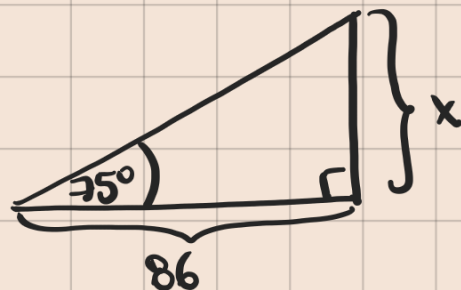


10. ¿Cuál es la altura de la torre Eiffel si se sabe que una persona que mide 1,8[m] de estatura ubicado a 86[m] del centro de la base de la torre, tal que al mirar su cúspide forma un ángulo de elevación de 75° ?

Sol: Tenemos:



Nos piden altura de la torre, llamémosla h .



Note que $h = x + 1,5$, si encontramos x entonces tendremos h .
Usando que:

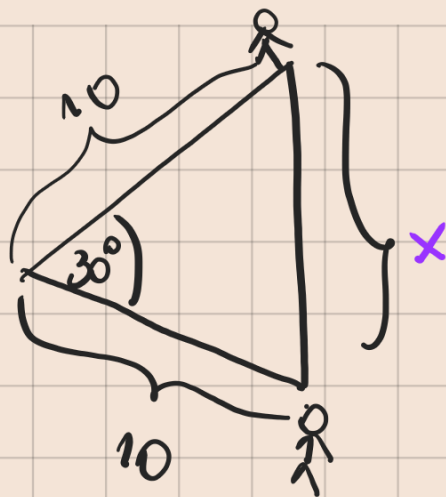
$$\tan(75^\circ) = \frac{x}{86}$$

$$\Rightarrow x = 86 \cdot \tan(75^\circ)$$

$$\text{Así, } h = 86 \cdot \tan(75^\circ) + 1,5 //$$

Dos hombres recorren 10 km partiendo desde un mismo cruce y siguiendo dos caminos rectos en el mismo sentido que forman 30° entre ellos. ¿A qué distancia en línea recta se encontrarán uno del otro al terminar la caminata?

Sol: Dibujemos lo que aparece en el enunciado:



Nos piden x .

Por teorema del coseno:

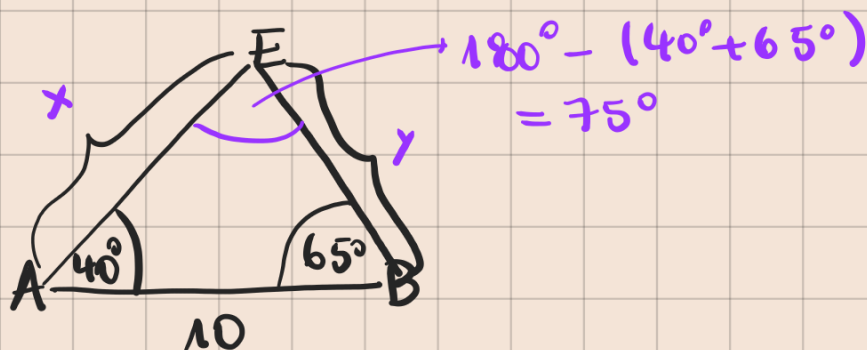
$$\begin{aligned}
 x^2 &= (10)^2 + (10)^2 - 2 \cdot 10 \cdot 10 \cos(30^\circ) \\
 &= 100 + 100 - \frac{200 \cdot \sqrt{3}}{2} \\
 &= 200 - 100\sqrt{3} \\
 &= 100(2 - \sqrt{3})
 \end{aligned}$$

$$\Rightarrow x = \pm \sqrt{100(2 - \sqrt{3})} = \pm 10\sqrt{2 - \sqrt{3}}$$

Como x es una medida $\Rightarrow x = 10\sqrt{2 - \sqrt{3}}$ km.

Para localizar una emisora clandestina, dos receptores, A y B, que distan entre sí 10 km, orientan sus antenas hacia el punto donde está la emisora. Estas direcciones forman con AB ángulos de 40° y 65° ¿A qué distancia de A y B se encuentra la emisora?

Sol:



Nos piden x e y .

Por teorema del seno:

$$\frac{\text{sen}(75^\circ)}{10} = \frac{\text{sen}(40^\circ)}{y}$$

$$\Rightarrow y = \frac{10 \text{sen}(40^\circ)}{\text{sen}(75^\circ)}$$

$$\frac{\text{sen}(75^\circ)}{10} = \frac{\text{sen}(65^\circ)}{x}$$

$$\Rightarrow x = \frac{10 \text{sen}(65^\circ)}{\text{sen}(75^\circ)}$$

\therefore A se encuentra a $\frac{10 \text{sen}(65^\circ)}{\text{sen}(75^\circ)}$ km de E.

B " " $\frac{10 \text{sen}(40^\circ)}{\text{sen}(75^\circ)}$ km de E.

Escriba los siguientes vectores en su forma polar.

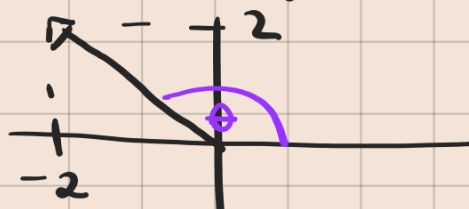
a) (1, 2)

b) (-2, 2)

c) $\left(-\frac{1}{2}, \frac{\sqrt{3}}{2}\right)$

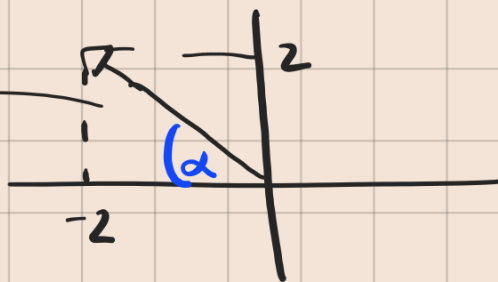
d) $(-2\sqrt{3}, -2)$

Sol: b) (-2, 2): lo dibujamos

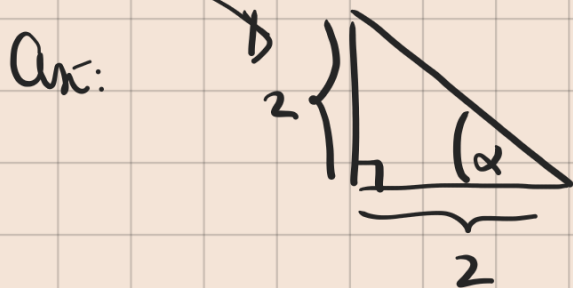


Nos piden $x = r \cos(\theta)$ con r el módulo del vector
 $y = r \sin(\theta)$ y θ el ϕ del dibujo

También podemos usar otro ángulo que es el siguiente:



pero si usamos este, nos queda:



isósceles $\Rightarrow \alpha = 45^\circ$

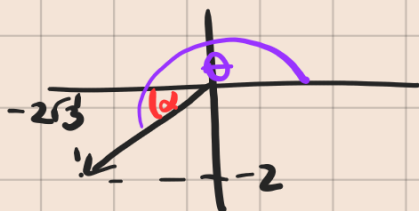
luego $\theta = 180^\circ - 45^\circ = 135^\circ$

Por otro lado:

$$r = \|(-2, 2)\| = \sqrt{(-2)^2 + (2)^2} = \sqrt{4+4} = \sqrt{8} = \sqrt{4 \cdot 2} = 2\sqrt{2}$$

$$\text{Ani, } x = r \cos(\theta) = 2\sqrt{2} \cos(135^\circ)$$
$$y = r \sin(\theta) = 2\sqrt{2} \sin(135^\circ)$$

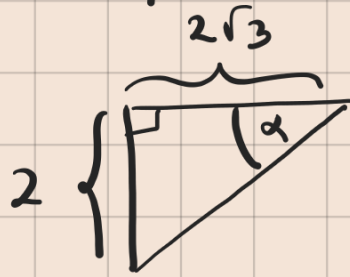
d) $(-2\sqrt{3}, -2)$:



$$\text{luego } x = r \cos(\theta)$$
$$y = r \sin(\theta)$$

$$r = \sqrt{(-2\sqrt{3})^2 + (-2)^2} = \sqrt{4 \cdot 3 + 4} = \sqrt{12 + 4} = \sqrt{16} = 4$$

Para hallar el θ :



$$\text{tenemos que } \tan(\alpha) = \frac{2}{2\sqrt{3}} = \frac{\sqrt{3}}{3} \Rightarrow \alpha = 30^\circ$$

$$\tan(30^\circ) = \frac{\text{sen}(30^\circ)}{\text{cos}(30^\circ)} = \frac{\frac{1}{2}}{\frac{\sqrt{3}}{2}} = \frac{1}{\sqrt{3}} = \frac{\sqrt{3}}{3} \quad \checkmark$$

$$\therefore \theta = 180^\circ + \alpha = 180^\circ + 30^\circ = 210^\circ$$

$$\text{Así, } x = 4 \cos(\theta) = 4 \cos(210^\circ)$$

$$y = 4 \text{ sen}(\theta) = 4 \text{ sen}(210^\circ)$$