

## EJERCICIO N° 4

### EL 31-A ANALISIS DE REDES I

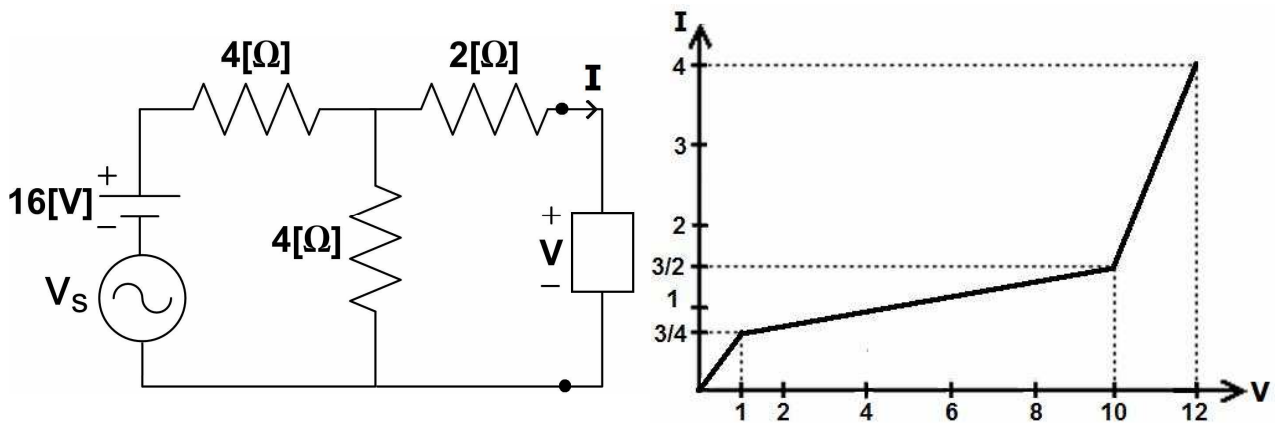
Prof : Santiago Bradford V.

02 de septiembre de 2008

Prof. Aux : Heinz Gerdin H.

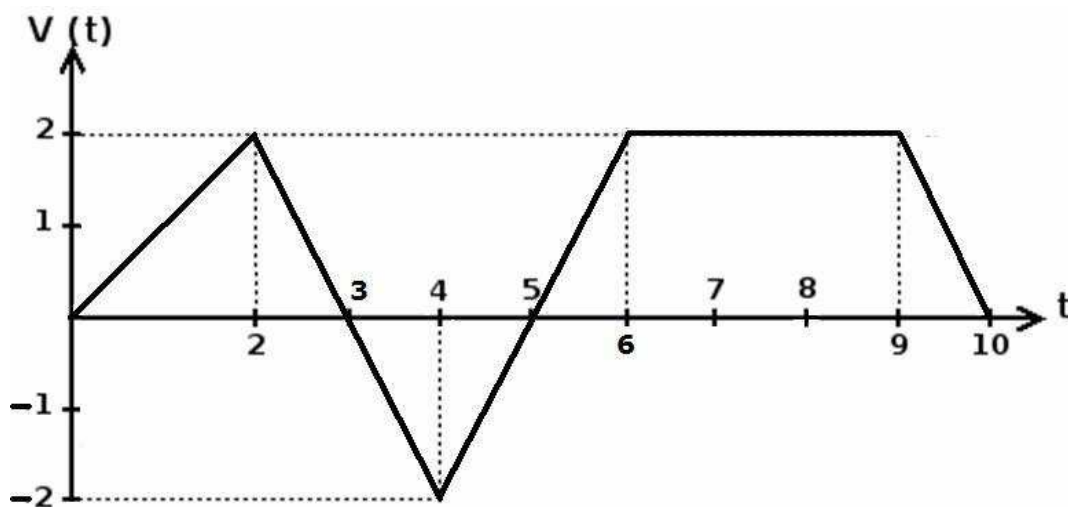
1. Para el circuito de la figura, con  $V_s(t) = A \sin(\omega t)$  una señal pequeña, encuentre:

- El punto de operación del elemento desconocido, cuya característica se encuentra en el gráfico V-I.
- El circuito equivalente de pequeña señal, con los valores de cada uno de sus componentes.
- Determine la amplitud máxima  $A$  de la fuente de pequeña señal, para la cual la red equivalente de pequeña señal encontrada en b). es válida.



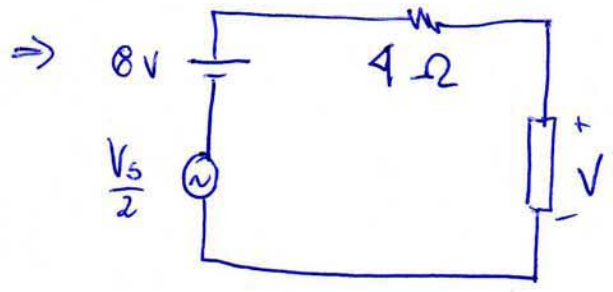
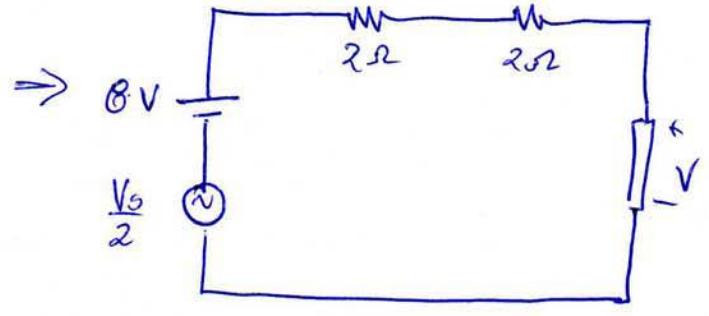
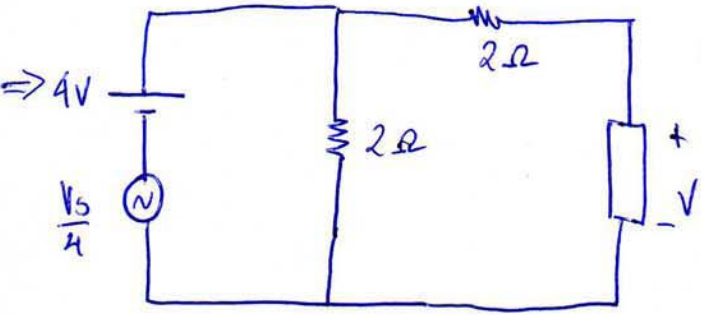
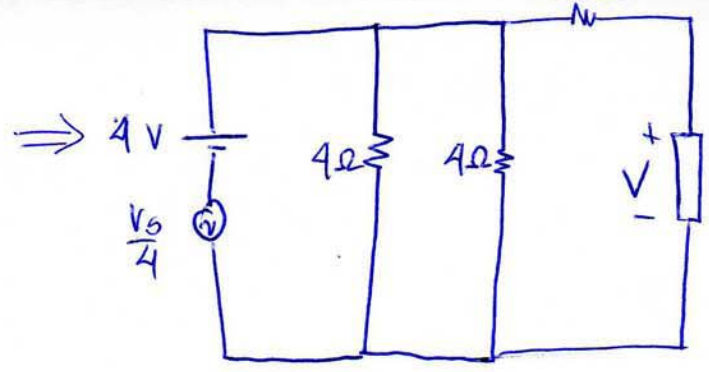
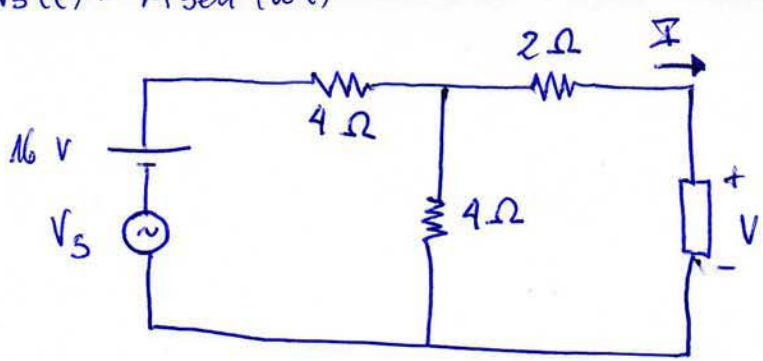
2.- El voltaje en una inductancia lineal e invariante de  $0,1[H]$  de inductancia se muestra en la figura.

- Expresar el voltaje en la figura de forma analítica, a partir de las formas de ondas vistas en clase ( $u(t)$ ,  $r(t)$ ,  $\delta(t)$ , etc)
- Determine analíticamente la corriente por la inductancia si la condición inicial de esta es  $I_L(0) = 4 [A]$ .

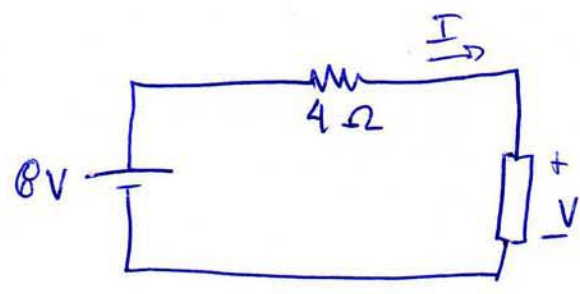


$$V_s(t) = A \sin(\omega t)$$

a)



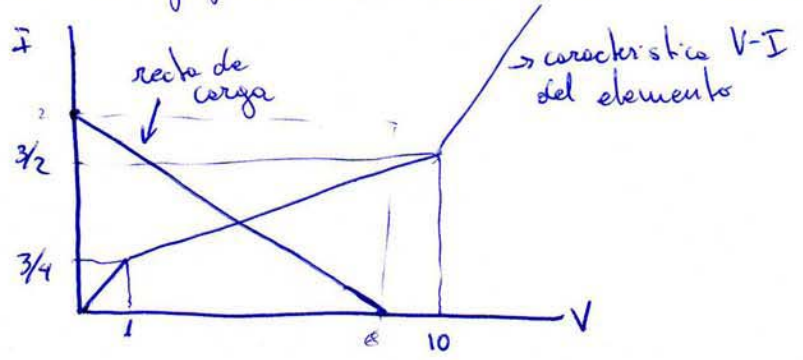
Circuito de Polarización:



Recta de carga:

$$8 [V] = 4 [\Omega] \cdot I + V$$

⇒ La recta de carga interseca la grafica de la característica del elemento en el segundo tramo.



Pto operación:

$$\begin{cases} 8 = 4 \cdot I + V \\ I = \frac{V}{12} + \frac{2}{3} \end{cases}$$

$$\Rightarrow I = 2 - \frac{V}{4} \quad (1)$$

$$I = \frac{V}{12} + \frac{2}{3} \quad (2)$$

$$\frac{V}{12} + \frac{2}{3} = 2 - \frac{V}{4} \quad // \textcircled{1} = \textcircled{2}$$

$$\Rightarrow \frac{V}{12} + \frac{V}{4} = 2 - \frac{2}{3} \quad \Rightarrow \quad \frac{V}{3} = \frac{4}{3} \quad \Rightarrow \quad \boxed{V=4}$$

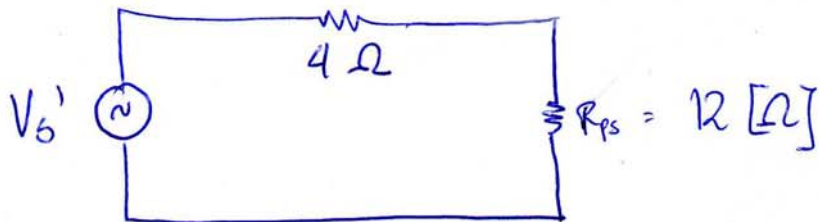
Reemplazamos en  $\textcircled{1}$ , obtenemos  $I = 1$

$\rightarrow$  Punto de operación es  $(V_o, I_o) = (4, 1)$  //

$$b) \quad \frac{\partial i}{\partial v} = \frac{1}{R_{ps}} \quad I = \frac{V}{12} + \frac{2}{3}$$


$$\Rightarrow \frac{\partial i}{\partial v} = \frac{1}{12} \quad \rightarrow \quad R_{ps} = 12 [\Omega]$$

El circuito equivalente de señal pequeña queda:



Donde  $V_s' = \frac{A}{2} \text{ sen}(\omega t)$

c) se debe determinar A en base el circuito equivalente



$$\rightarrow 8 + V_s' = 4 \cdot I + V$$

Reemplazamos los valores obtenidos en el tramo de la característica del elemento donde se encuentra el punto de operación, i.e:

$$V_1, I_1 = (1, 3/4) \quad ; \quad V_2, I_2 = (10, 3/2)$$

$$\Rightarrow P_1 \quad 8 + V_s' = 4 \cdot \frac{3}{4} + 1$$

$$\Rightarrow V_s' = 4 - 8 = -4 \quad \Rightarrow |A| < 8 \quad \parallel V_s' = \frac{A}{2} \sin(\omega t)$$

$$P_2 \quad 8 + V_s' = 4 \cdot \frac{3}{2} + 10$$

$$V_s' = 16 - 8 = 8 \quad \Rightarrow |A| < 16$$

Por tanto, el máximo valor que puede tener A es el menor de los anteriores.

$$\rightarrow |A| < 8 \quad \parallel$$



## Punto P2 Ejercicio 4

a) Analizando las pendientes de la señal, supuestas funciones rampa  $[r(t)]$  se obtiene:

$$V_L(t) = r(t) - 3r(t-2) + 4r(t-4) - 2r(t-6) - 2r(t-9) + 2r(t-10)$$

$0 \leq t < \infty$

b) Sabemos que:  $V_L = L \frac{di_L}{dt} \Rightarrow i_L(t) = \frac{1}{L} \int_0^t v_L(t) dt + i_L(0)$

$$\Rightarrow i_L(t) = 4 + \frac{1}{0,1} \int_0^t [r(t) - 3r(t-2) + 4r(t-4) - 2r(t-6) - 2r(t-9) + 2r(t-10)] dt$$

Recordar que  $r(t) = t u(t)$        $u(t) = \begin{cases} 0 & \text{s. } t < 0 \\ 1 & \text{s. } t \geq 0 \end{cases}$

$$\Rightarrow i_L(t) = 4 + 10 \left[ \int_0^t r(t) - 3 \int_0^t r(t-2) + 4 \int_0^t r(t-4) - 2 \int_0^t r(t-6) - 2 \int_0^t r(t-9) + 2 \int_0^t r(t-10) \right]$$

$$\Rightarrow i_L(t) = 4 + 10 \left[ u(t) \int_0^t t dt - 3u(t-2) \int_2^t (t-2) dt + 4u(t-4) \int_4^t (t-4) dt - 2u(t-6) \int_6^t (t-6) dt - 2u(t-9) \int_9^t (t-9) dt + 2u(t-10) \int_{10}^t (t-10) dt \right]$$

$$\Rightarrow i_L(t) = 4 + 10 \left[ u(t) \cdot \frac{t^2}{2} - \frac{3}{2} u(t-2) (t-2)^2 + 2u(t-4) \cdot (t-4)^2 - \frac{2}{2} u(t-6) \cdot (t-6)^2 - u(t-9) \cdot (t-9)^2 + u(t-10) \cdot (t-10)^2 \right]$$

$$\Rightarrow i_L(t) = 4 + 5t^2 u(t) - 15(t-2)^2 u(t-2) + 20(t-4)^2 u(t-4) - 10(t-6)^2 u(t-6) - 10(t-9)^2 u(t-9) + 10(t-10)^2 u(t-10)$$

[A] //