

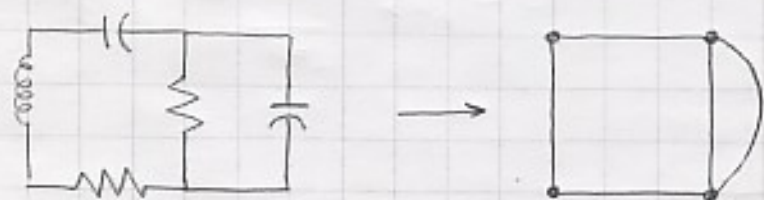
GRAFOS DE REDES

Desearíamos desarrollar procedimientos sistemáticos para analizar y establecer propiedades de cualquier red de cualquier complejidad. Una razón adicional para nuestra necesidad de desarrollar procedimientos sistemáticos es que el mundo de la ingeniería ha sido completamente cambiado por el desarrollo de los computadores.

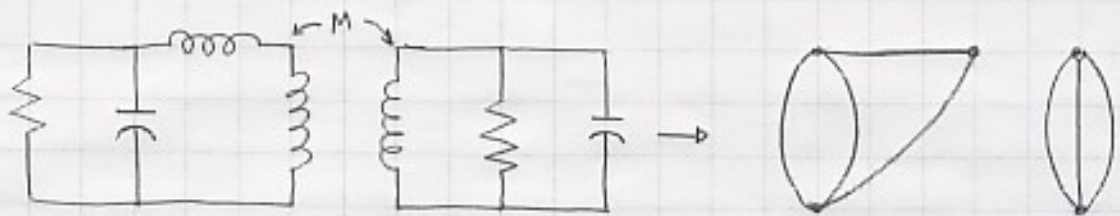
CONCEPTO DE GRAFO

Consideremos cualquier red física, suponemos, que nosotros consideramos sólo aquellos parámetros que permiten modelar la red física como una conexión de elementos concentrados, la red puede ser lineal o no lineal activa o pasiva, variable o invariable. Investigaremos los formas de expresar las restricciones impuestas en los voltajes y corrientes de rama por KVL y KCL

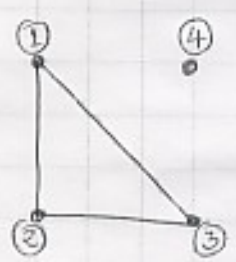
Reemplazamos cada elemento de la red por una rama (representada por un segmento de línea), y al final de cada rama dibujaremos puntos negros llamados nodos, El resultado de este proceso es un grafo.



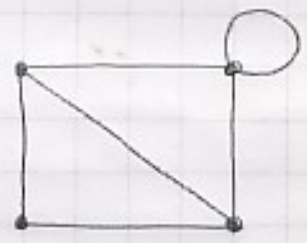
La palabra grafo quiere decir un conjunto de nodos junto con un conjunto de ramas con la condición que cada rama termina en un nodo.



La definición de grafo incluye el caso especial en el cual un nodo no tiene rama conectada a él.

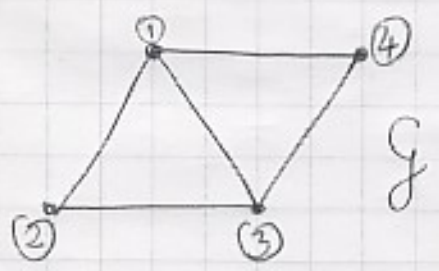


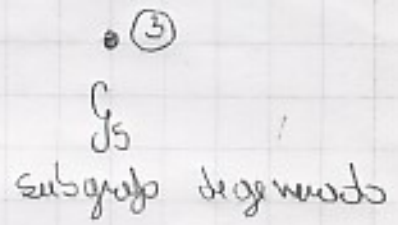
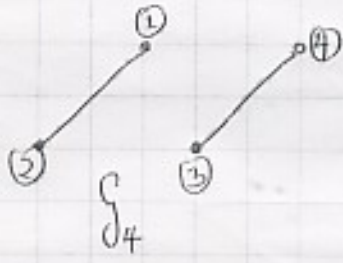
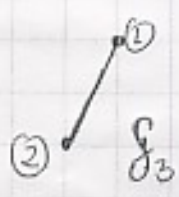
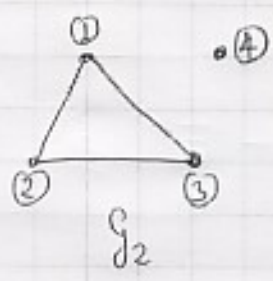
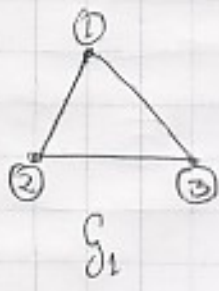
grafo con nodo aislado



grafo con autobucle

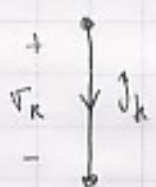
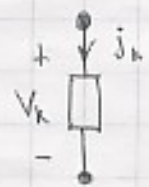
Supongamos que tenemos un grafo G , entonces decimos que G_1 es un subgrafo de G si G_1 es a su vez un grafo, si cada nodo de G_1 es un nodo de G y si cada rama de G_1 es una rama de G .





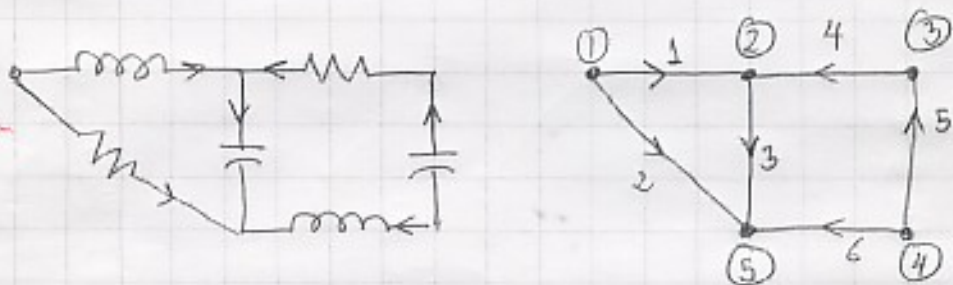
GRAFO ORIENTADO

Si adoptamos direcciones de referencia asociadas



Siempre reservamos direcciones de referencia asociadas por lo tanto solo necesitamos indicar la flecha asociada a la dirección de referencia de la corriente y omitirnos el signo + y - de la dirección de referencia del voltaje.

Dada una red R con direcciones de referencia asignadas para cada una de sus ramas, se construye un grupo cuyos ramas tienen direcciones de referencia. Este grupo se denomina grupo orientado. (4)



Un grupo orientado es un conjunto de nodos junto con un conjunto de ramas orientadas.

Mirando el ejemplo podemos ver que la rama 4 es incidente con el nodo 2 y nodo 3, rama 4 sale del nodo 3 y entra al nodo 2.

Dada un punto de vista analítico podemos describir el grupo orientado indicando todos los ramos y nodos e indicando que ramos entran y salen de cada uno de los nodos.

Es conveniente hacer esto escribiendo una matriz.

Supongamos que el grupo orientado está hecho de b ramos y n_f nodos. Supongamos que numeramos arbitrariamente todos los ramos y nodos del grupo.

llamaremos matriz de incidencia nodo-rama A a una matriz rectangular de n_f filas y b columnas cuyo elemento (i,k) está definido por

⑤

$$a_{ik} = \begin{cases} 1 & \text{si el nodo } k \text{ sale del nodo } i \\ -1 & \text{si el nodo } k \text{ entra al nodo } i \\ 0 & \text{si el nodo } k \text{ no interactúa con el nodo } i \end{cases}$$

Ya que cada rama sale de un único nodo y entra a un único nodo, cada columna de la matriz A_a contiene un 1 y un -1 y el resto de los elementos es 0.

$$\begin{matrix} & 1 & 2 & 3 & 4 & 5 & 6 \\ \textcircled{1} & 1 & 1 & 0 & 0 & 0 & 0 \\ \textcircled{2} & -1 & 0 & 1 & -1 & 0 & 0 \\ \textcircled{3} & 0 & 0 & 0 & 1 & -1 & 0 \\ \textcircled{4} & 0 & 0 & 0 & 0 & 1 & 1 \\ \textcircled{5} & 0 & -1 & -1 & 0 & 0 & -1 \end{matrix}$$

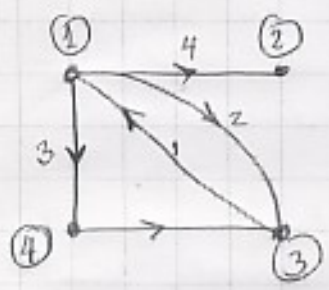
En el trabajo computacional la matriz de incidencia es usada como un método estándar para describir la interconexión de los elementos.

Ejercicio

Dibuje un grafo orientado correspondiente a la siguiente matriz de incidencia.

$$A_a = \begin{bmatrix} -1 & 1 & 1 & 1 & 0 \\ 0 & 0 & 0 & -1 & 0 \\ 1 & -1 & 0 & 0 & -1 \\ 0 & 0 & -1 & 0 & 1 \end{bmatrix}$$

son 4 nodos y 5 ramas



CONJUNTO DE CORTE Y LCK

Para expresar LCK matemáticamente para cualquier red descomponemos el concepto de conjunto de corte.

LCK establece que la suma algebraica de todos los corrientes relativos de un nodo es igual a cero.

Si hacemos la partición de nodos de una red en dos conjuntos mediante una superficie cerrada tal que un conjunto de nodos este dentro de la superficie y el otro fuera, entonces LCK implica que la suma de los corrientes relativos de la superficie es cero.

En muchos casos el conjunto de todos los ramos que atraviesan la superficie, son llamado un conjunto de corte.

Para hacer mas clara esta idea debe mas palabras pero a pero y distinguen entre grafos conexos y no conexos

Dice mas que un grafo es conexo si si existe al menos un camino (a b) luego de los ramos

del grafo y descontando las orientaciones de los nodos) entre los nodos cualesquiera del grafo.

Por convención, un grafo consistente de solo un nodo es conexo.

Un grafo conexo se dice que es de una sola pieza.

Dado un grafo no conexo sus subgrafos conexos son también llamados partes separadas.

Así un grafo no conexo debe tener al menos dos partes separadas.



conexo



no conexo

Un conjunto de nodos de un grafo conexo G es llamado un conjunto de corte si

1) La remoción de todos los nodos de el conjunto causa que el grafo resultante tenga 2 partes separadas

2) La remoción de todos los nodos del conjunto menos uno causa que el grafo resultante sea conexo



grafo no conexo

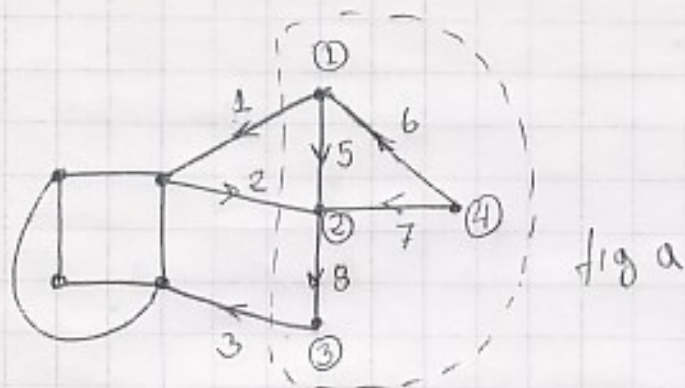


fig a



fig b)

En el caso general que un grafo G tiene s partes separadas, un conjunto de corte está definido como un conjunto de ramas tal que:

- ① al remover todas las ramas del conjunto resulta un grafo resultante tenga $s+1$ partes separadas
 - ② al remover todas las ramas del conjunto resulta un grafo resultante tenga s partes separadas.
- Entonces podemos generalizar la LCK

PARA CUALQUIER RED CONCENTRADA, PARA CUALQUIERA DE SUS CONJUNTOS DE CORTE, Y PARA CUALQUIER TIEMPO, LA SUMA ALGEBRAICA DE TODAS LAS CORRIENTES DE RAMA QUE ATRAVIEZAN EL CONJUNTO DE CORTE ES CERO

para la figura a)

$$J_1(t) - J_2(t) + J_3(t) = 0 \quad \forall t$$

para la figura b)

$$J_1(t) + J_2(t) - J_3(t) = 0$$

nodo ① $J_1 + J_5 - J_6 = 0$

nodo ② $-J_2 - J_5 - J_7 + J_8 = 0$

nodo ③ $J_3 - J_8 = 0$

nodo 4 $J_6 + J_7 = 0$

recordando $J_1 - J_2 + J_3 = 0$ que es la ecuación del conjunto de nodos.

CIRCUITOS Y LVA

Cuando tenemos redes simples, tomamos el significado de los circuitos como intuitivamente claro. Generalmente hablando, un circuito es una conexión cerrada.

Para multiplicar muchos desarmados de capacitores potenciales, por eso damos la siguiente definición de circuitos.

Un subgrupo G_1 de un grupo G es llamado un circuito si:

- ① El subgrupo G_1 es conexo.
- ② dos ramas de G_2 son maderas un solo nodo



CIRCUITO



NO



NO

LVK

PARA CUALQUIER RED CONCENTRADA, PARA CUALQUIERA DE SUS CIRCUITOS, EN CUALQUIER TIEMPO, LA SUMA ALGEBRAICA DE LOS VOLTAJES DE RAMA ALREDEDOR DE UN CIRCUITO ES CERO.

TEOREMA DE TELLEGEN

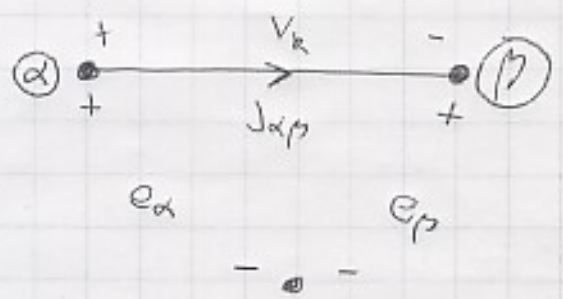
$$\sum_{R=1}^b V_R J_R$$

red arbitraria concentrada direcciones de referencia asociados para los voltajes (V_R) y corrientes de ramas (J_R)

CONSIDEREMOS UNA RED CONCENTRADA ARBITRARIA CUYO GRAFO G TIEVE B RAMAS Y N_T NODOS. SUPONGAMOS QUE A CADA RAMA DE EL GRAFO ASIGNAMOS ARBITRARIAMENTE UN VOLTAJE DE RAMA V_k Y UNA CORRIENTE DE RAMA J_k PARA $k=1, \dots, b$. SI LOS VOLTAJES DE RAMA SATISFACEN TODAS LAS RESTRICCIONES IMPUUESTAS POR KVL Y SI LAS CORRIENTES DE RAMA J_1, \dots, J_b SATISFACEN TODAS LAS RESTRICCIONES IMPUUESTAS POR KCL ENTONCES

ellos están relacionados con los voltajes

$$\sum_{k=1}^b V_k J_k = 0$$



PRUEBA (grupo conexo y no hay ramas en paralelo)

$$V_k J_k = (e_\alpha - e_\beta) J_{k\alpha\beta}$$

$$V_k J_k = (e_\beta - e_\alpha) J_{k\beta\alpha}$$

Si existen ramas en paralelo se puede reducir a solo una rama y considerar la rama de la corriente
 Si el grupo no es conexo se puede aplicar a cada uno de sus partes separadas y luego se suma.

(12)

$$V_k J_k = \frac{1}{2} [(e_\alpha - e_\rho) J_{\alpha\rho} + (e_\rho - e_\alpha) J_{\rho\alpha}]$$

Si extendemos la red a todos los ramos del grafo obtenemos.

$$\sum_{k=1}^b V_k J_k = \frac{1}{2} \sum_{\alpha=1}^{n_t} \sum_{\rho=1}^{n_t} (e_\alpha - e_\rho) J_{\alpha\rho}$$

$$\sum_{k=1}^b V_k J_k = \frac{1}{2} \sum_{\alpha=1}^{n_t} \sum_{\rho=1}^{n_t} (e_\alpha - e_\rho) J_{\alpha\rho}$$

Si no hay rama entre α y ρ para $J_{\alpha\rho} = J_{\rho\alpha} = 0$

$$\sum_{k=1}^b V_k J_k = \frac{1}{2} \sum_{\alpha=1}^{n_t} e_\alpha \left(\sum_{\rho=1}^{n_t} J_{\alpha\rho} \right) - \frac{1}{2} \sum_{\rho=1}^{n_t} e_\rho \left(\sum_{\alpha=1}^{n_t} J_{\alpha\rho} \right)$$

para cada α tipo, $\sum_{\rho=1}^{n_t} J_{\alpha\rho}$ es la suma de todos los corrientes de rama saliendo del nodo α .

para cada ρ tipo, $\sum_{\alpha=1}^{n_t} J_{\alpha\rho}$ es la suma de todos los corrientes de rama saliendo del nodo ρ .

POR KCL cada una de estas sumas es cero por lo

total

$$\sum_{k=1}^b V_k J_k = 0 \quad \text{quod}$$

(13)

CONSIDEREMOS DOS REDES ARBITRARIAS CUYA ÚNICA RESTRICCIÓN ES QUE TENGAN EL MISMO GRAFO. EN CADA UNA DE ESTAS REDES ESCOGEAMOS LAS MISMAS DIRECCIONES DE REFERENCIA Y NUMERAMOS LAS RAMAS EN LA MISMA FORMA. (LAS REDES PUEDEN SER NO LINEALES Y VARIANTES). SEAN v_k y j_k LOS VOLTAJES Y CORRIENTES DE RAMA DE LA PRIMERA RED Y \hat{v}_k \hat{j}_k LOS VOLTAJES Y CORRIENTES DE RAMA DE LA SEGUNDA RED, YA QUE v_k y \hat{v}_k SATISFACEN EL MISMO CONJUNTO DE KVL Y j_k y \hat{j}_k SATISFACEN EL MISMO CONJUNTO DE KCL, EL TEOREMA DE TELLEGEN GARANTIZA

$$\sum_{k=1}^b v_k j_k = \sum_{k=1}^b \hat{v}_k \hat{j}_k = 0$$

$$\sum_{k=1}^b \hat{v}_k j_k = \sum_{k=1}^b v_k \hat{j}_k = 0$$

CONSERVACION DE LA ENERGIA

Consideremos una red arbitraria, tenemos con la notación del teorema de Tellegen

$$\sum_{k=1}^b v_k(t) j_k(t) = 0 \quad \forall t$$

ya que $v_k(t) \cdot j_k(t)$ es la potencia entregada en el tiempo t por la red a la rama k , el teorema puede ser interpretado como sigue: en cualquier instante t la suma de la potencia entregada a cada rama de una red es 0.

\Rightarrow Conservación de la energía

CONSERVACION DE LA POTENCIA COMPLEJA

Supongamos que la red está en RPS. Representamos el voltaje $v_k(t)$ por el fasor \dot{V}_k y la corriente de rama j_k por el fasor \dot{J}_k .

Claramente $\dot{V}_1, \dot{V}_2, \dots, \dot{V}_b$ y $\dot{J}_1, \dot{J}_2, \dots, \dot{J}_b$ están sujetos a todas las restricciones impuestas por KVL y KCL.

Sin embargo los conjugados $\dot{J}_1^*, \dot{J}_2^*, \dots, \dot{J}_b^*$ también satisfacen la KCL por lo tanto por el teorema de Tellegen

$$\sum_{k=1}^b \frac{1}{2} \dot{V}_k \dot{J}_k^* = 0$$

⇒ Conservación de la potencia compleja

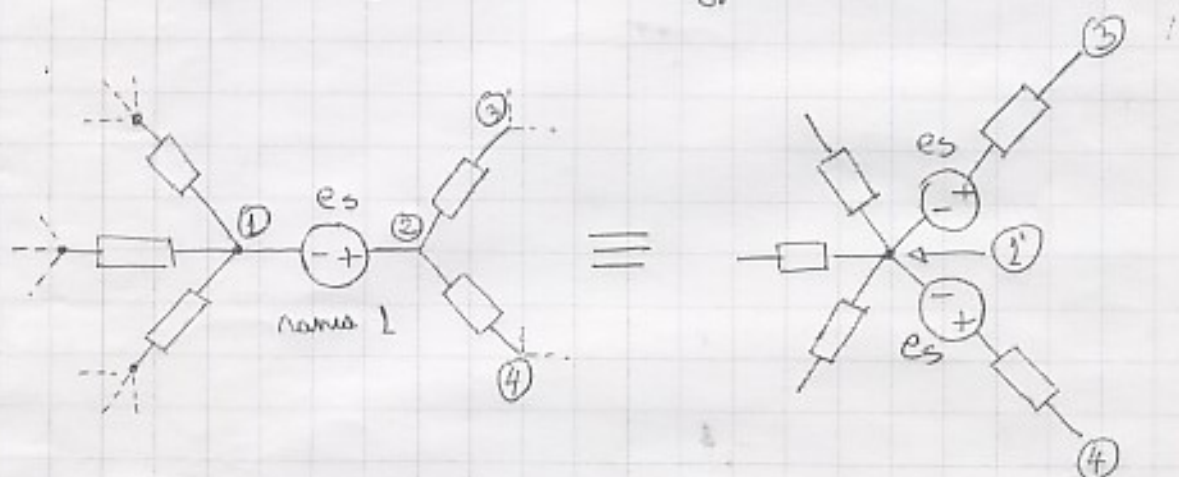
TEOREMA.

CONSIDEREMOS UNA RED LINEAL E INVARIANTE EN
 RPS, LA CUAL ES MANEJADA POR VARIAS FUENTES
 INDEPENDIENTES QUE TIENEN LA MISMA FRECUENCIA,
 ENTONCES LA SUMA DE LA POTENCIA COMPLEJA ENTREGADA
 POR CADA FUENTE INDEPENDIENTE A LA RED ES
 IGUAL A LA SUMA DE LA POTENCIA COMPLEJA
 RECIBIDA POR TODAS LAS OTRAS RAMAS.

ANÁLISIS DE NODOS Y MALLAS

TRANSFORMACIONES DE FUENTES

En la discusión del problema de análisis de redes suponemos que el número y la ubicación de las fuentes independientes son arbitrarios mientras no sean violadas las leyes de Kirchhoff.

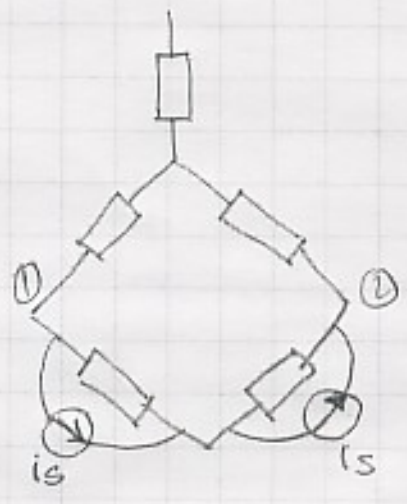
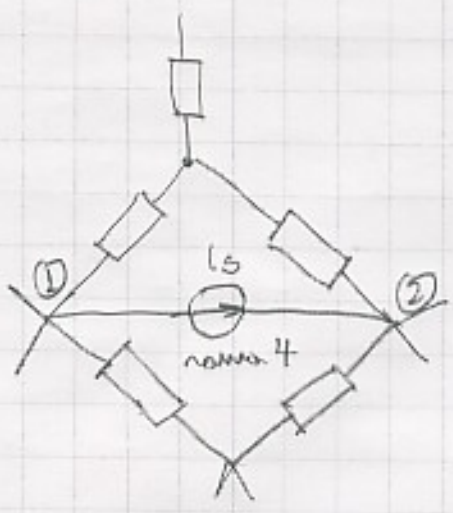


La fuente se transforma de forma tal que en todo los circuitos se cumplan las mismas ecuaciones de voltajes de Kirchhoff.

Siempre que la corriente en la rama 1

No sea una variable de interés u.

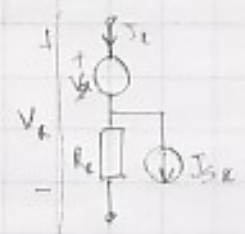
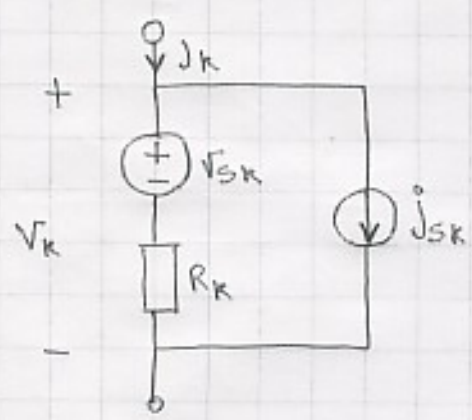
se puede hacer la transformación de fuente.



La fuente es la fuente de corriente tal que en todos los nodos se siguen cumpliendo las mismas ecuaciones de corrientes de Kirchhoff

Usando estas transformaciones, podemos modificar cualquier red de corriente tal que cada fuente de voltaje está conectada en serie con algún elemento que no es una fuente, y cada fuente de corriente es conectada en paralelo con un elemento que no es una fuente.

Sea la siguiente rama.



$$V_R = (J_R - J_{Sk}) R_k + V_{Sk}$$

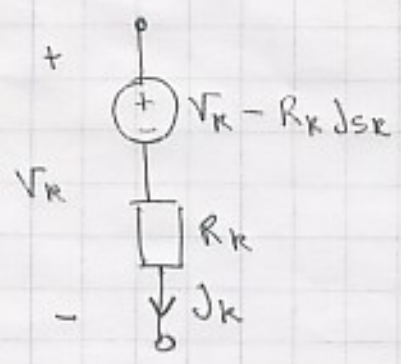
la ecuación de la rama es.

$$V_R = (J_R - J_{Sk}) R_k + V_{Sk}$$

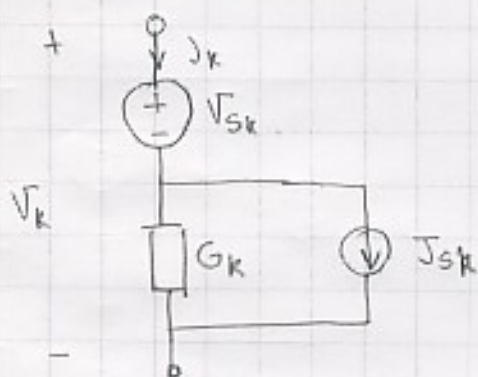
$$V_R = V_{Sk} - R_k J_{Sk} + R_k J_R$$

esto puede ser puesto como

$$V_R = (V_{Sk} - R_k J_{Sk}) + R_k J_R$$



Veamos la siguiente rama

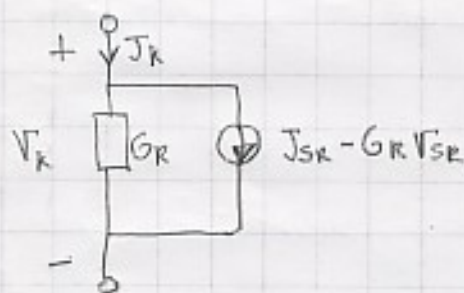


$$J_k = J_{Sk} + G_R(V_R - V_{Sk})$$

$$J_k = J_{Sk} - G_R V_{Sk} + G_R V_R$$

y esto se puede simplificar a

$$J_R = (J_{Sk} - G_R V_{Sk}) + G_R V_R$$



Estos dos ejercicios muestran equivalentes con r tulos pero es conveniente siempre no trabajar en  nodos nodal que todas las fuentes independientes sean fuentes de corriente y a tal punto no mas que en el analisis de circuitos regionales todos los fuentes independientes sean fuentes de voltaje.

IMPLICACIONES DE LCK

Consideremos una red R que tiene N_t nodos y b ramas, sin pérdida de generalidad suponemos que el grafo es conexo.

Escogemos arbitrariamente un nodo de referencia en el nodo N_t y los nodos restantes son $①, ②, \dots, ④$ donde $N \cong N_t - 1$

Aplicamos LCK a los nodos $①, ②, \dots, ④$

Si tenemos un sistema de N ecuaciones lineales con b incógnitas, el primer inciso básico del análisis de nodos es

lineales homogéneas

Las n ecuaciones algebraicas en J_1, \dots, J_b obtenidas de aplicar la LCK a cada nodo excepto el nodo de referencia, constituye un conjunto de ecuaciones lineales independientes.

Consideremos el sistema de n ecuaciones lineales algebraicas que expresan las LCK para todos los nodos excepto el de referencia, esto se puede escribir en forma matricial

$$A \cdot J = 0 \quad (\text{LCK})$$

J Vector de corrientes de rama

$$J = \begin{bmatrix} J_1 \\ J_2 \\ \vdots \\ J_b \end{bmatrix}$$

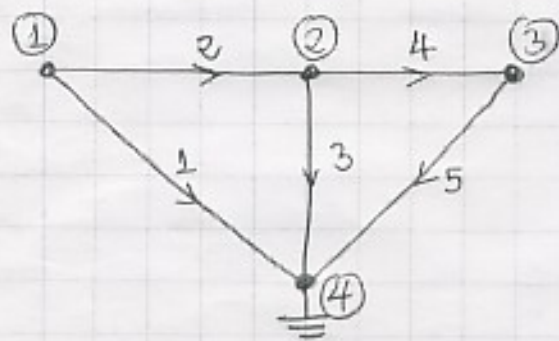
donde A es una matriz de $N \times b$ de dimensiones N ⑥

$$a_{ik} = \begin{cases} 1 & \text{si suma } k \text{ sale del nodo } i \\ -1 & \text{si suma } k \text{ entra al nodo } i \\ 0 & \text{si suma } k \text{ no incide en el nodo } i \end{cases}$$

$A \cdot J$ es por lo tanto un vector de dimensiones N

observamos que la matriz A es idéntica a la matriz de incidencia nodo-suma ya visto. La única diferencia es que A tiene $N_t = N + 1$ filas. Obviamente, A se obtiene de A_n borrando la fila correspondiente al nodo de referencia. A por lo tanto es llamada, la matriz de incidencia reducida.

Consideremos el grafo de la figura



$$J = \begin{bmatrix} J_1 \\ J_2 \\ J_3 \\ J_4 \\ J_5 \end{bmatrix}$$

$$A = \begin{matrix} & 1 & 2 & 3 & 4 & 5 \\ \textcircled{1} & \begin{bmatrix} 1 & 1 & 0 & 0 & 0 \\ 0 & -1 & 1 & 1 & 0 \\ 0 & 0 & 0 & -1 & 1 \end{bmatrix} \\ \textcircled{2} \\ \textcircled{3} \end{matrix}$$

$$A \cdot J = \begin{bmatrix} 1 & 1 & 0 & 0 & 0 \\ 0 & -1 & 1 & 1 & 0 \\ 0 & 0 & 0 & -1 & 1 \end{bmatrix} \begin{bmatrix} J_1 \\ J_2 \\ J_3 \\ J_4 \\ J_5 \end{bmatrix} = 0$$

=>

$$\begin{aligned} J_1 + J_2 &= 0 \\ -J_2 + J_3 + J_4 &= 0 \\ -J_4 + J_5 &= 0 \end{aligned}$$

Es fácil ver que estas ecuaciones son linealmente independientes, pues cada una contiene una variable que no contiene la otra.

IMPLICACIONES DE LKX

Denotemos e_1, e_2, \dots, e_n los voltajes en los ramos ①, ②, ..., ② medidos con respecto al nodo de referencia. Usaremos los voltajes de ramos con respecto a la referencia en el análisis nodal.

KVL garantiza que los voltajes de ramos con respecto a la referencia son definidos sin ambigüedad.

podemos demostrar que los voltajes de ramos se pueden obtener de los voltajes de nodos por la ecuación

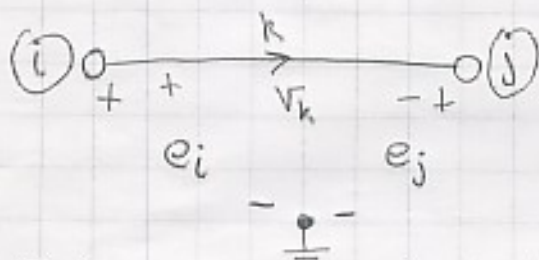
$$v = A^T e$$

donde A^T es una matriz de $b \times n$ la cual es la transpuesta de la matriz de incidencia reducida

Para nodos esta es necesario considerar dos tipos de ramos, aquellos que inciden al nodo de referencia y los que no.

Los que inciden al voltaje de rama son el voltaje de nodo o su negativo.

En los que no incide el voltaje de rama debe formar un loop con los voltajes de nodo y por lo tanto puede ser el formado como una combinación lineal de los voltajes de nodo por KVL.



Si la rama incide en el nodo de referencia

$$V_k = \begin{cases} e_i & \text{si rama } k \text{ sale del nodo } i \\ -e_i & \text{si rama } k \text{ entra al nodo } i \end{cases}$$

Si la rama no incide en el nodo de referencia

$$V_k = e_i - e_j \quad \text{si rama } k \text{ sale del nodo } i \text{ y entra al nodo } j$$

Seem

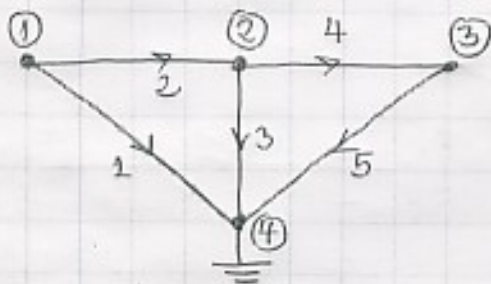
$$\begin{bmatrix} V_1 \\ V_2 \\ \vdots \\ V_k \end{bmatrix} = \begin{bmatrix} C_{11} & C_{12} & \dots & C_{1n} \\ C_{21} & C_{22} & \dots & C_{2n} \\ \vdots & \vdots & \dots & \vdots \\ C_{k1} & C_{k2} & \dots & C_{kn} \end{bmatrix} \begin{bmatrix} e_1 \\ e_2 \\ \vdots \\ e_n \end{bmatrix}$$

donde C_{ki} son 0, 1 o -1

$$C_{ki} = \begin{cases} 1 & \text{si } \text{rama } k \text{ sale } \text{nudo } i \\ -1 & \text{si } \text{rama } k \text{ entra } \text{nudo } i \\ 0 & \text{si } \text{rama } k \text{ no incide en } \text{nudo } i \end{cases}$$

N puede ser que $C_{ki} = A_{ia}$

$$\Rightarrow C = A^T$$



$$v = \begin{bmatrix} v_1 \\ v_2 \\ v_3 \\ v_4 \\ v_5 \end{bmatrix}$$

$$e = \begin{bmatrix} e_1 \\ e_2 \\ e_3 \end{bmatrix}$$

$$A^T = \begin{bmatrix} 1 & 0 & 0 \\ 1 & -1 & 0 \\ 0 & 1 & 0 \\ 0 & 1 & -1 \\ 0 & 0 & 1 \end{bmatrix}$$

$$v = A^T e = \begin{bmatrix} 1 & 0 & 0 \\ 1 & -1 & 0 \\ 0 & 1 & 0 \\ 0 & 1 & -1 \\ 0 & 0 & 1 \end{bmatrix} \begin{bmatrix} e_1 \\ e_2 \\ e_3 \end{bmatrix}$$

$$\begin{aligned}
V_1 &= e_1 \\
V_2 &= e_1 - e_2 \\
V_3 &= e_2 \\
V_4 &= e_2 - e_3 \\
V_5 &= e_3
\end{aligned}$$

Las ecuaciones $A \cdot J = 0$ y $v = A^T e$ son dos ecuaciones básicas del análisis de nodos. Ellos se obtienen del grafo de la red y de las leyes de Kirchhoff, la cual hace que sean independientes de los elementos.

Obviamente para resolver las n variables e_1, e_2, \dots en cualquier caso la característica de los nodos de la red es decir como se relaciona el voltaje de un nodo V_n con la corriente de un nodo J_n . Para el caso de elementos no lineales esto es complicado por lo tanto abordamos el problema de redes lineales.

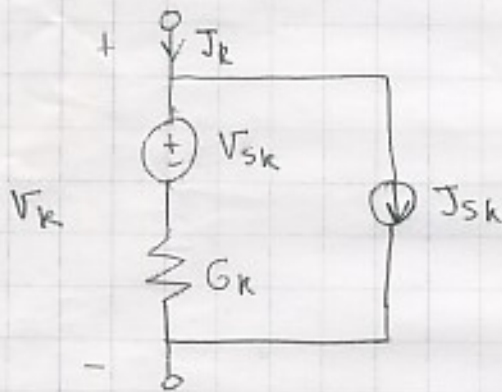
ANÁLISIS NODAL DE REDES LINEALES INVARIANTES

El problema del análisis general de redes es combinar las ecuaciones de rama con las ecuaciones nodales por voltios

$$A \cdot J = 0 \quad (\text{KCL})$$

$$V = A^T e \quad (\text{KVL})$$

Consideremos una red lineal invariante resistiva con b ramas y $N+1$ nodos y una parte representada como rama típica en la figura



$$V_k = R_k J_k + V_{sk} - R_k J_{sk} \quad \text{or equivalent circuit}$$

$$J_k = G_k V_k + J_{sk} - G_k V_{sk}$$

in matrix notation

$$J = GV + J_s - GV_s$$

donde G es la matriz conductancia de ramas y es una matriz diagonal de orden b

$$G = \begin{bmatrix} G_1 & 0 & \dots & 0 \\ 0 & G_2 & & \\ \vdots & & \ddots & \\ 0 & & & 0 & G_b \end{bmatrix}$$

los vectores J_s y V_s son vectores de fuente de dimensiones b

$$J_s = \begin{bmatrix} J_{s1} \\ \vdots \\ J_{sb} \end{bmatrix} \quad V_s = \begin{bmatrix} V_{s1} \\ \vdots \\ V_{sb} \end{bmatrix}$$

$$A \cdot J = 0 \quad AGV + AJ_s - AGV_s = 0$$

por $V = A^T e$

$$AGA^T e + A(J_s - GV_s) = 0$$

$$\Rightarrow AGA^T e = A(GV_s - J_s)$$

$$Y_n \triangleq AGA^T$$

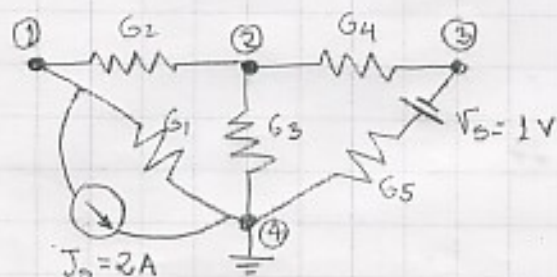
$$i_s = AGV_s - AJ_s \Rightarrow$$

$$\boxed{Y_n e = i_s} \text{ ecuaciones de nodo}$$

Y_n : matriz de admitancias de nodos

i_s : Vector de fuentes de corriente de nodos.

EJEMPLO



$$G_1 = 2 \text{ U}$$

$$G_2 = 1 \text{ U}$$

$$G_3 = 3 \text{ U}$$

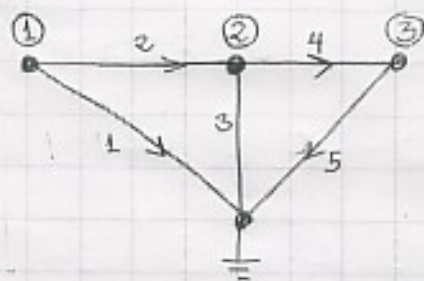
$$G_4 = 1 \text{ U}$$

$$G_5 = 1 \text{ U}$$

Paso 1: escogemos un nodo de referencia, numeramos los nodos

Paso 2: numeramos los ramos y asignamos a cada una una dirección de referencia

Paso 3



$$A = \begin{bmatrix} 1 & 1 & 0 & 0 & 0 \\ 0 & -1 & 1 & 1 & 0 \\ 0 & 0 & 0 & -1 & 1 \end{bmatrix}$$

escriba las ecuaciones de nodos en la forma

$$J = GV + J_s - GV_s$$

$$\begin{bmatrix} J_1 \\ J_2 \\ J_3 \\ J_4 \\ J_5 \end{bmatrix} = \begin{bmatrix} 2 & 0 & 0 & 0 & 0 \\ 0 & 1 & 0 & 0 & 0 \\ 0 & 0 & 3 & 0 & 0 \\ 0 & 0 & 0 & 1 & 0 \\ 0 & 0 & 0 & 0 & 1 \end{bmatrix} \begin{bmatrix} v_1 \\ v_2 \\ v_3 \\ v_4 \\ v_5 \end{bmatrix} + \begin{bmatrix} 2 \\ 0 \\ 0 \\ 0 \\ 0 \end{bmatrix} - \begin{bmatrix} 2 & 0 & 0 & 0 & 0 \\ 0 & 1 & 0 & 0 & 0 \\ 0 & 0 & 3 & 0 & 0 \\ 0 & 0 & 0 & 1 & 0 \\ 0 & 0 & 0 & 0 & 1 \end{bmatrix} \begin{bmatrix} 0 \\ 0 \\ 0 \\ 0 \\ -1 \end{bmatrix}$$

Habíamos planteado las ecuaciones

$$A \cdot J = 0$$

$$V = A^T e$$

$$J = G V + J_s - G V_s$$

luego debemos llegar a

$$Y_m e = i_s$$

donde

$$Y_m = A G A^T$$

$$\begin{bmatrix} 1 & 1 & 0 & 0 & 0 \\ 0 & -1 & 1 & 1 & 0 \\ 0 & 0 & 0 & -1 & 1 \end{bmatrix} \begin{bmatrix} 2 & 0 & 0 & 0 & 0 \\ 0 & 1 & 0 & 0 & 0 \\ 0 & 0 & 3 & 0 & 0 \\ 0 & 0 & 0 & 1 & 0 \\ 0 & 0 & 0 & 0 & 1 \end{bmatrix} \begin{bmatrix} 1 & 0 & 0 \\ 1 & -1 & 0 \\ 0 & 1 & 0 \\ 0 & 1 & -1 \\ 0 & 0 & 1 \end{bmatrix}$$

$$\begin{bmatrix} 2 & 1 & 0 & 0 & 0 \\ 0 & -1 & 3 & 1 & 0 \\ 0 & 0 & 0 & -1 & 1 \end{bmatrix} \begin{bmatrix} 1 & 0 & 0 \\ 1 & -1 & 0 \\ 0 & 1 & 0 \\ 0 & 1 & -1 \\ 0 & 0 & 1 \end{bmatrix} = \begin{bmatrix} 3 & -1 & 0 \\ -1 & 5 & -1 \\ 0 & -1 & 2 \end{bmatrix}$$

$$i_s \triangleq A G V_s - A J_s$$

$$\begin{bmatrix} 1 & 1 & 0 & 0 & 0 \\ 0 & -1 & 1 & 1 & 0 \\ 0 & 0 & 0 & -1 & 1 \end{bmatrix} \begin{bmatrix} 2 & 0 & 0 & 0 & 0 \\ 0 & 1 & 0 & 0 & 0 \\ 0 & 0 & 3 & 0 & 0 \\ 0 & 0 & 0 & 1 & 0 \\ 0 & 0 & 0 & 0 & 1 \end{bmatrix} \begin{bmatrix} 0 \\ 0 \\ 0 \\ 0 \\ -1 \end{bmatrix} = \begin{bmatrix} 2 & 1 & 0 & 0 & 0 \\ 0 & -1 & 3 & 1 & 0 \\ 0 & 0 & 0 & -1 & 1 \end{bmatrix} \begin{bmatrix} 0 \\ 0 \\ 0 \\ 0 \\ -1 \end{bmatrix} = \begin{bmatrix} 0 \\ 0 \\ -1 \end{bmatrix}$$

$$\begin{bmatrix} 1 & 1 & 0 & 0 & 0 \\ 0 & -1 & 1 & 1 & 0 \\ 0 & 0 & 0 & -1 & 1 \end{bmatrix} \begin{bmatrix} 2 \\ 0 \\ 0 \\ 0 \\ 0 \end{bmatrix} = \begin{bmatrix} 2 \\ 0 \\ 0 \end{bmatrix}$$

$$\bar{I}_s = \begin{bmatrix} -2 \\ 0 \\ -1 \end{bmatrix}$$

Luego la ecuación de nodos es

$$\begin{bmatrix} 3 & -1 & 0 \\ -1 & 5 & -1 \\ 0 & -1 & 2 \end{bmatrix} \begin{bmatrix} e_1 \\ e_2 \\ e_3 \end{bmatrix} = \begin{bmatrix} -2 \\ 0 \\ -1 \end{bmatrix}$$

Luego esta ecuación se puede resolver con métodos de inversión de matrices

$$e = Y_n^{-1} i_s = \frac{1}{25} \begin{bmatrix} 9 & 2 & 1 \\ 2 & 6 & 3 \\ 1 & 3 & 14 \end{bmatrix} \begin{bmatrix} -2 \\ 0 \\ 1 \end{bmatrix} = \frac{1}{25} \begin{bmatrix} -17 \\ -1 \\ 12 \end{bmatrix}$$

una vez que hemos encontrado los voltajes de nodo podemos encontrar los voltajes de rama con la ecuación

$$v = A^T e = \frac{1}{25} \begin{bmatrix} -17 \\ -16 \\ -1 \\ -13 \\ 12 \end{bmatrix}$$

Luego podemos encontrar los corrientes de rama como

$$J = GV + J_s - GV_s = \frac{1}{25} \begin{bmatrix} 16 \\ -16 \\ -3 \\ -13 \\ -13 \end{bmatrix}$$

ECUACIONES DEL METODO DE LOS NODOS POR INSPECCION

El método paso a paso aplicado antes es muy importante en las regiones principales

- ① muestra muy claramente los hechos que deben ser usados para analizar la red
- ② Es completamente general en el sentido que puede ser usado en todos los casos, por lo tanto es adecuado para cálculos automáticos

En el caso de redes resistivas con fuentes independientes (en particular sin elementos acoplados tales como fuentes dependientes) las ecuaciones de nodo pueden ser escritas por inspección. Si y_{ik} denota el elemento (i,k) de la matriz admitancia de nodos Y_n , la ecuación es:

$Y_n e = i_s$ y escrito en forma escalar

$$\begin{bmatrix} y_{11} & & & \\ & y_{22} & & \\ & & \ddots & \\ & & & y_{nn} \end{bmatrix} \begin{bmatrix} e_1 \\ \vdots \\ e_n \end{bmatrix} = \begin{bmatrix} i_{s1} \\ \vdots \\ i_{sn} \end{bmatrix}$$

Se puede seguir los siguientes reglas.

- 1.- Y_{ii} es la suma de las conductancias de todas las ramas conectadas al nodo (i) ; Y_{ii} se denomina la admitancia propia del nodo (i)
- 2.- Y_{ik} es el negativo de la suma de las conductancias de todas las ramas conectadas entre el nodo (i) y el nodo (k) ; Y_{ik} se denomina la admitancia mutua entre el nodo (i) y el nodo (k)
- 3.- Si convertimos todas las fuentes de voltaje en fuentes de corriente, entonces I_{sk} es la suma algebraica de todas las fuentes de corriente entrando al nodo k ; las fuentes de corriente cuya dirección de referencia entre el nodo (k) tienen signo positivo, el otro tiene signo negativo.

NOTAS

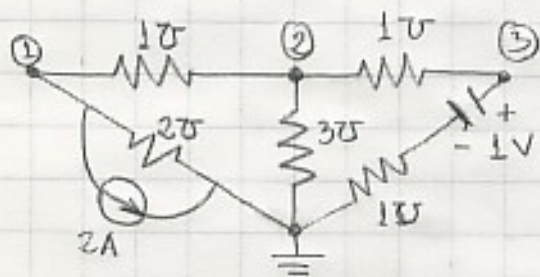
- ① Para redes lineales de resistencias y fuentes independientes, la matriz admitancia de nodos Y_n es simétrica
 i.e., $Y_{ik} = Y_{ki} \quad \forall i, k$

Además ya que $Y_n \triangleq AGA^T = Y_n^T = (AGA^T)^T = AG^T A^T = AGA^T = Y_n$
 observamos que un elemento escalar G es una matriz diagonal

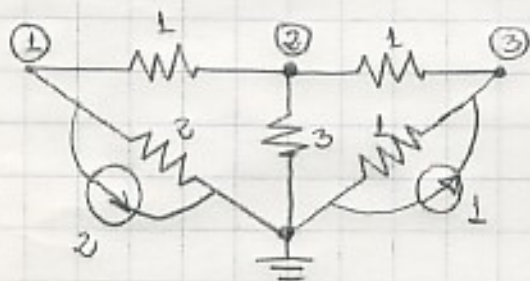
- ② Si todas las conductancias de una red resistiva lineal son positivas es fácil mostrar que $\det(Y_n) > 0$

Por lo tanto la regla de cramer garantiza que $Y_n e = i_s$ tiene una solución única.

ejemplo



transformando los puertos de voltaje en puertos de corriente.



por lo tanto

$$\begin{bmatrix} 3 & -1 & 0 \\ -1 & 5 & -1 \\ 0 & -1 & 2 \end{bmatrix} \begin{bmatrix} e_1 \\ e_2 \\ e_3 \end{bmatrix} = \begin{bmatrix} -2 \\ 0 \\ 1 \end{bmatrix} \Rightarrow \begin{bmatrix} e_1 \\ e_2 \\ e_3 \end{bmatrix} = \frac{1}{25} \begin{bmatrix} -17 \\ -1 \\ 12 \end{bmatrix}$$

Consideremos ahora una red lineal e invariante que contiene resistencias, inductancias y condensadores y fuentes independientes.

Supongamos que estamos interesados sólo en el análisis en régimen permanente sinusoidal.

Supongamos todos los fuentes independientes están sinusoidales de la misma frecuencia angular ω . Supongamos que cada rama incluye una fuente de voltaje y/o una fuente de corriente además de un elemento que no es una fuente.

Las ecuaciones son las mismas, pero en términos de admitancias.

La ecuación de rama es

$$\dot{I}_k = Y_k \dot{V}_k + \dot{I}_{s_k} - Y_k \dot{V}_{s_k} \quad k=1, 2, \dots, b$$

donde \dot{I}_k y \dot{V}_k son los valores corriente y voltaje de la k -ésima rama, y \dot{I}_{s_k} y \dot{V}_{s_k} son los valores representados de las fuentes de corriente y voltaje de la rama k , luego en forma matricial

$$J = Y_b V + I_s - Y_b V_s$$

La matriz Y_b se denomina matriz admitancia de ramas. Como el análisis es exactamente el mismo que para la red resistiva la ecuación de nodo es de la forma

$$Y_n E = I_s$$

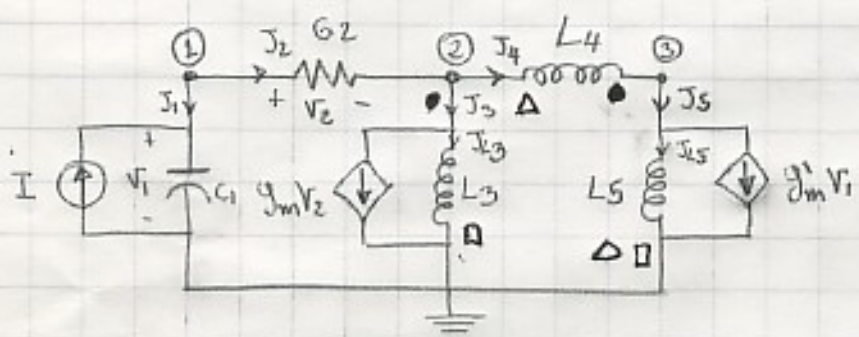
E es el vector que representa el vector de voltajes de nodo
 I_s es el vector fuentes de corriente

$$Y_n = AY_b A^T$$

$$I_s = AY_b V_s - AJ_s$$

Ejemplo:

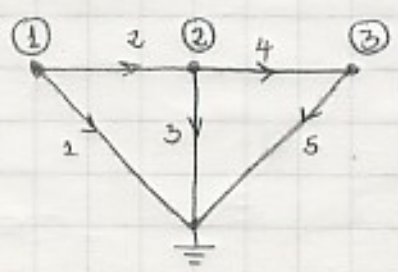
Consideremos la red de la figura



Los inductancias L_3, L_4 y L_5 están magnéticamente acopladas y su matriz inductancia es

$$L = \begin{bmatrix} L & -1 & 1 \\ -1 & 5/3 & -4/3 \\ L & 4/3 & 5/3 \end{bmatrix} \quad \begin{bmatrix} V_{L_3} \\ V_{L_4} \\ V_{L_5} \end{bmatrix} = j\omega \begin{bmatrix} 1 & -1 & 1 \\ -1 & 5/3 & -4/3 \\ 1 & -4/3 & 5/3 \end{bmatrix} \begin{bmatrix} I_{L_3} \\ I_{L_4} \\ I_{L_5} \end{bmatrix}$$

Hagamos un grafo orientado de la red



matriz de incidencia

$$A = \begin{matrix} & \begin{matrix} 1 & 2 & 3 & 4 & 5 \end{matrix} \\ \begin{matrix} \textcircled{1} \\ \textcircled{2} \\ \textcircled{3} \end{matrix} & \begin{bmatrix} 1 & 1 & 0 & 0 & 0 \\ 0 & -1 & 1 & 1 & 0 \\ 0 & 0 & 0 & -1 & 1 \end{bmatrix} \end{matrix}$$

luego nos vamos a expresar las ecuaciones de rama

$$J_1 = j\omega C_1 V_1 - I$$

$$J_2 = G_2 V_2$$

para escribir J_3 , J_4 y J_5 en términos de V_k 's no es suficiente además la matriz inductancia no nos da la relación entre V_3 , V_4 y V_5 y las corrientes por las inductancias

$$\begin{bmatrix} V_3 \\ V_4 \\ V_5 \end{bmatrix} = \begin{bmatrix} 1 & -1 & 1 \\ -1 & 5/3 & -4/3 \\ 1 & -4/3 & 5/3 \end{bmatrix} \begin{bmatrix} J_3 \\ J_4 \\ J_{L5} \end{bmatrix}$$

invertiendo la matriz

$$\begin{bmatrix} J_{L3} \\ J_4 \\ J_{L5} \end{bmatrix} = \frac{1}{j\omega} \begin{bmatrix} 3 & 1 & -1 \\ 1 & 2 & 1 \\ -1 & 1 & 2 \end{bmatrix} \begin{bmatrix} V_3 \\ V_4 \\ V_5 \end{bmatrix}$$

habiendo obtenido estas relaciones y notando que

$$J_3 = J_{L3} + g_m V_2 \quad \text{y}$$

$$J_5 = J_{L5} + g'_m V_2$$

podemos escribir las últimas tres ecuaciones de rama como sigue.

$$J_1 = j\omega C_1 V_1 - I$$

$$J_2 = G_2 V_2$$

$$J_3 = g_m V_2 + \frac{3}{j\omega} V_3 + \frac{1}{j\omega} V_4 - \frac{1}{j\omega} V_5$$

$$J_4 = \frac{1}{j\omega} V_3 + \frac{2}{j\omega} V_4 + \frac{1}{j\omega} V_5$$

$$J_5 = g_m V_1 - \frac{1}{j\omega} V_3 + \frac{1}{j\omega} V_4 + \frac{2}{j\omega} V_5$$

$$\begin{bmatrix} J_1 \\ J_2 \\ J_3 \\ J_4 \\ J_5 \end{bmatrix} = \begin{bmatrix} j\omega C_1 & & & & \\ & G_2 & & & \\ & g_m & \frac{3}{j\omega} & \frac{1}{j\omega} & -\frac{1}{j\omega} \\ & & \frac{1}{j\omega} & \frac{2}{j\omega} & \frac{1}{j\omega} \\ g_m & & -\frac{1}{j\omega} & \frac{1}{j\omega} & \frac{2}{j\omega} \end{bmatrix} \begin{bmatrix} V_1 \\ V_2 \\ V_3 \\ V_4 \\ V_5 \end{bmatrix} + \begin{bmatrix} -I \\ 0 \\ 0 \\ 0 \\ 0 \end{bmatrix}$$

Después la matriz Y_n

$$\begin{bmatrix} 1 & 1 & 0 & 0 & 0 \\ 0 & -1 & 1 & 1 & 0 \\ 0 & 0 & 0 & -1 & 1 \end{bmatrix} \begin{bmatrix} j\omega C_1 & 0 & 0 & 0 & 0 \\ 0 & G_2 & 0 & 0 & 0 \\ 0 & g_m & \frac{3}{j\omega} & \frac{1}{j\omega} & -\frac{1}{j\omega} \\ 0 & 0 & \frac{1}{j\omega} & \frac{2}{j\omega} & \frac{1}{j\omega} \\ g_m & 0 & -\frac{1}{j\omega} & \frac{1}{j\omega} & \frac{2}{j\omega} \end{bmatrix} = \begin{bmatrix} j\omega C_1 & G_2 & 0 & 0 & 0 \\ 0 & -G_2 + g_m & \frac{4}{j\omega} & \frac{3}{j\omega} & 0 \\ g_m & 0 & -\frac{2}{j\omega} & \frac{1}{j\omega} & \frac{1}{j\omega} \end{bmatrix}$$

$$\begin{bmatrix} j\omega C_1 & G_2 & 0 & 0 & 0 \\ 0 & -G_2 + g_m & \frac{4}{j\omega} & \frac{3}{j\omega} & 0 \\ g_m & 0 & -\frac{2}{j\omega} & -\frac{1}{j\omega} & \frac{1}{j\omega} \end{bmatrix} \begin{bmatrix} 1 & 0 & 0 \\ 1 & -1 & 0 \\ 0 & 1 & 0 \\ 0 & 1 & -1 \\ 0 & 0 & 1 \end{bmatrix}$$

$$Y_n = \begin{bmatrix} j\omega C_1 + G_2 & -G_2 & 0 \\ -G_2 + g_m & G_2 - g_m + \frac{7}{j\omega} & -\frac{3}{j\omega} \\ g_m' & -\frac{3}{j\omega} & \frac{2}{j\omega} \end{bmatrix}$$

$$I_s = -A J_s \quad \text{ya que } V_s = 0$$

$$I_s = \begin{bmatrix} I \\ 0 \\ 0 \end{bmatrix}$$

luego la ecuación final es

$$\begin{bmatrix} j\omega C_1 + G_2 & -G_2 & 0 \\ -G_2 + g_m & G_2 - g_m + \frac{7}{j\omega} & -\frac{3}{j\omega} \\ g_m' & -\frac{3}{j\omega} & \frac{2}{j\omega} \end{bmatrix} \begin{bmatrix} E_1 \\ E_2 \\ E_3 \end{bmatrix} = \begin{bmatrix} I \\ 0 \\ 0 \end{bmatrix}$$

Este ejemplo muestra claramente el valor del método matemático, obviamente es necesario tener de cuenta la ecuación del método de los nodos por selección

El ejemplo detallado requiere un método para escribir las ecuaciones de RPS de cualquier red, lineal e invariante con partes sinusoidales de la misma frecuencia, note que la red puede incluir R, L, C inductancias múltiples, partes dependientes e independientes

Los pasos son como sigue.

- ① Realice (si es necesario) transformaciones de fuentes, pero deje la red en términos de ramos típicos
- ② numere los ramos y nodos.
- ③ Dibuje un grafo orientado y Monte la matriz de incidencia
- ④ escriba las ecuaciones de Kirchhoff
 $A \cdot J = 0$
 $V = A^T E$
- ⑤ escriba las ecuaciones de rama

$$J = Y_b(j\omega)V - Y_b(j\omega)V_s + J_s$$

- ⑥ obtenga las ecuaciones de nodo

$$Y_n(j\omega) E = I_s$$

donde

$$Y_n(j\omega) = A Y_b(j\omega) A^T$$

$$I_s = A Y_b(j\omega) V_s - A J_s$$

- ⑦ Resuelva las ecuaciones de nodo para el vector E
- ⑧ obtenga $V = A^T E$ y $J = Y_b(j\omega)V - Y_b(j\omega)V_s + J_s$

nosotros obtenemos los siguientes resultados útiles

1.- Si no hay elementos acoblaos (ni inductancias mutuas ni puertos dependientes, la matriz Y_b es diagonal y por lo tanto la matriz Y_n es simétrica.

2.- Si no hay puertos dependientes (ni puertos inductancias mutuas) $Y_b(j\omega)$ y $Y_n(j\omega)$ son simétricas.

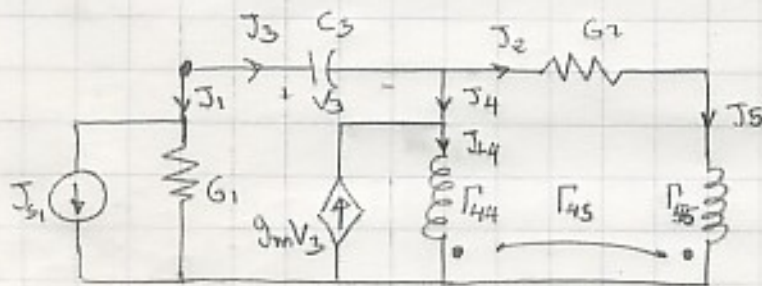
Ecuaciones integrodiferenciales

En general el análisis de nodos conduce a un conjunto de ecuaciones integrodiferenciales simultáneas.

Presentaremos un método sistemático para obtener las ecuaciones integrodiferenciales de nodos de cualquier red lineal e invariante.

Lo presentaremos mediante un ejemplo.

Ejemplo. Sea la siguiente red.



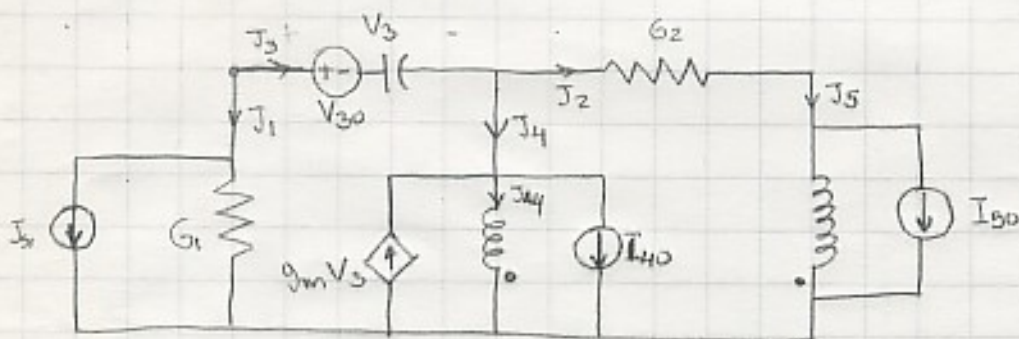
$$\begin{bmatrix} \Gamma_{44} & \Gamma_{45} \\ \Gamma_{45} & \Gamma_{55} \end{bmatrix}$$

$$V_{C3}(0) = V_{30}$$

$$I_{L4}(0) = I_{40}$$

$$I_{L5}(0) = I_{50}$$

pongo las condiciones iniciales como fuentes



grafo orientado

(2)



matriz de incidencia de nodos

$$A = \begin{bmatrix} 1 & 0 & 1 & 0 & 0 \\ 0 & 1 & -1 & 1 & 0 \\ 0 & -1 & 0 & 0 & 1 \end{bmatrix}$$

Expresamos los corrientes en función de los voltajes

$$J_1 = G_1 V_1 + J_{S1}$$

$$J_2 = G_2 V_2$$

$$J_3 = C_3 D V_3 - C_3 D V_{S0} u(t)$$

$$J_4 = \frac{\Gamma_{44}}{D} V_4 + \frac{\Gamma_{45}}{D} V_5 - g_m V_3 + I_{40} u(t)$$

$$J_5 = \frac{\Gamma_{54}}{D} V_4 + \frac{\Gamma_{55}}{D} V_5 + I_{50} u(t)$$

luego las ecuaciones de nudo pueden ser escritas en forma matricial como sigue:

$$\begin{bmatrix} J_1 \\ J_2 \\ J_3 \\ J_4 \\ J_5 \end{bmatrix} = \begin{bmatrix} G_1 & 0 & 0 & 0 & 0 \\ 0 & G_2 & 0 & 0 & 0 \\ 0 & 0 & C_3 D & 0 & 0 \\ 0 & 0 & -g_m & \Gamma_{44}/D & \Gamma_{45}/D \\ 0 & 0 & 0 & \Gamma_{45}/D & \Gamma_{55}/D \end{bmatrix} \begin{bmatrix} v_1 \\ v_2 \\ v_3 \\ v_4 \\ v_5 \end{bmatrix} + \begin{bmatrix} J_{s1} \\ 0 \\ 0 \\ I_{40} u(t) \\ I_{50} u(t) \end{bmatrix} - \frac{Y_b}{s} \begin{bmatrix} 0 \\ 0 \\ V_{30} u(t) \\ 0 \\ 0 \end{bmatrix}$$

luego podemos calcular la matriz Y_m

$$Y_m = A Y_b A^T$$

$$\begin{bmatrix} 1 & 0 & 1 & 0 & 0 \\ 0 & 1 & -1 & 1 & 0 \\ 0 & -1 & 0 & 0 & 1 \end{bmatrix} \frac{Y_b}{s} = \begin{bmatrix} G_1 & 0 & C_3 D & 0 & 0 \\ 0 & G_2 & -C_3 D - g_m & \Gamma_{44}/D & \Gamma_{45}/D \\ 0 & -G_2 & 0 & \Gamma_{45}/D & \Gamma_{55}/D \end{bmatrix} \begin{bmatrix} 1 & 0 & 0 \\ 0 & 1 & -1 \\ 0 & -1 & 0 \\ 0 & 1 & 0 \\ 0 & 0 & 1 \end{bmatrix}$$

$$\begin{bmatrix} G_1 + C_3 D & -C_3 D & 0 \\ -C_3 D - g_m & G_2 + C_3 D + g_m + \Gamma_{44}/D & -G_2 + \Gamma_{45}/D \\ 0 & -G_2 + \Gamma_{45}/D & G_2 + \Gamma_{55}/D \end{bmatrix}$$

calculamos ahora el vector de fuentes

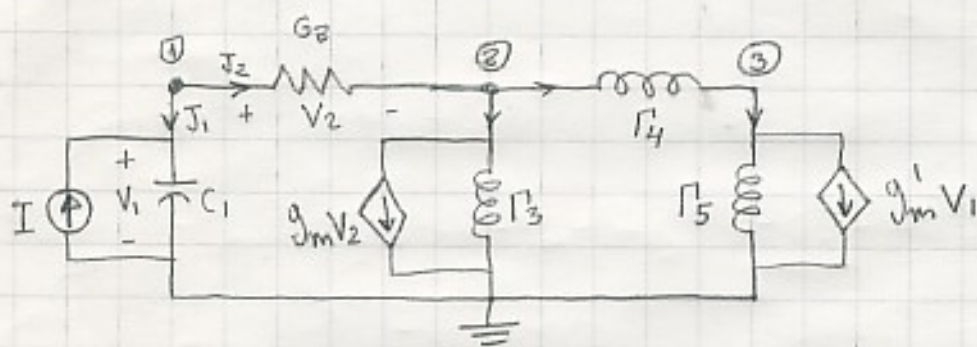
$$\begin{bmatrix} 1 & 0 & 1 & 0 & 0 \\ 0 & 1 & -1 & 1 & 0 \\ 0 & -1 & 0 & 0 & 1 \end{bmatrix} \begin{bmatrix} -J_{s1} \\ 0 \\ C_3 D V_{30} u(t) \\ -I_{40} u(t) \\ -I_{50} u(t) \end{bmatrix} = \begin{bmatrix} -J_{s1} + C_3 D V_{30} u(t) \\ -C_3 D V_{30} u(t) - I_{40} u(t) \\ -I_{50} u(t) \end{bmatrix}$$

(4)

$$\begin{bmatrix} G_1 + C_3 D & -C_3 D & 0 \\ -C_3 D - g_m & G_2 + C_3 D + g_m + \Gamma_{44}/D & -G_2 + \Gamma_{45}/D \\ 0 & -G_2 + \Gamma_{45}/D & G_2 + \Gamma_{55}/D \end{bmatrix} \begin{bmatrix} e_1 \\ e_2 \\ e_3 \end{bmatrix} = \begin{bmatrix} -J_{51} + C_3 D V_{30} u(t) \\ -C_3 D V_{30} u(t) - I_{40} u(t) \\ -I_{50} u(t) \end{bmatrix}$$

Cuando los redes bajo estudio involucran solo unos pocos puertos dependientes, las ecuaciones pueden ser escritas por inspección si uno usa la siguiente idea: trate los puertos dependientes como puertos independientes, y solo en el último paso exprese la fuente en términos de los variables apropiados.

Ejemplo: sea la siguiente red en RPS.



Escribiendo las ecuaciones por inspección.

$$\begin{bmatrix} G_2 + j\omega C_1 & -G_2 & 0 \\ -G_2 & G_2 + \Gamma_3/j\omega + \Gamma_4/j\omega & -\Gamma_4/j\omega \\ 0 & -\Gamma_4/j\omega & \Gamma_4/j\omega + \Gamma_5/j\omega \end{bmatrix} \begin{bmatrix} E_1 \\ E_2 \\ E_3 \end{bmatrix} = \begin{bmatrix} I \\ -g_m V_2 \\ -g'_m V_1 \end{bmatrix}$$