


P1. Tarea 1, sección 4, 2020-1.

Una pelota se lanza verticalmente hacia arriba y alcanza una altura máxima h . La pelota cae libremente bajo la acción de la gravedad terrestre y rebota repetidamente, dado que después de cada bote la pelota alcanza una fracción $f < 1$ de un altura previa.

- a) Describa la ecuación de itinerario de forma conveniente donde no necesite conocer la velocidad inicial para describir la caída de la pelota, utilizando esto determine el tiempo de un movimiento vertical de subida y bajada.
Hint: Recuerde que el lanzamiento vertical es en cierta forma simétrico. ✓
- b) Encuentre el tiempo total que demora la pelota antes de detenerse. *Hint: Note que el tiempo total puede ser escrito como una serie.* ✓
- c) Utilizando el razonamiento anterior, encuentre la distancia total que la pelota viaja.



$$y(t) = y_0 + v_0 t - \frac{g t^2}{2}$$

Podemos usar esto de 2 formas:

1) $t_0 \rightarrow y(t) = v_0 t - \frac{g t^2}{2}$ } Recorro h

2) $t_0 \rightarrow y(t) = h - \frac{g t^2}{2}$ } Recorro h

Obs:

Conservación de la energía.

$$\frac{m v_0^2}{2} = m g h \Rightarrow v_0^2 = 2 g h$$

El tiempo de subida es igual al tiempo de bajada.

Usando (2) $\rightarrow y(t) = h - \frac{g t^2}{2}$

Luego $0 = h - \frac{g t^2}{2}$

$$\Rightarrow \sqrt{\frac{2h}{g}} = t \Rightarrow \sqrt{\frac{2h}{g}} = t_{\text{bajada}} = t_{\text{subida}}$$

$$\Rightarrow 2 \sqrt{\frac{2h}{g}} = t_0 \quad \left. \begin{array}{l} \text{Subir y} \\ \text{bajar.} \end{array} \right\}$$

b) Usando que en el bote i -ésimo: $y(t) = h f^i - \frac{g t^2}{2}$ ↳ luego del bote i -ésimo.

$$t_{\text{Caer}} \Rightarrow 0 = h f^i - \frac{g t^2}{2}$$

$$\Leftrightarrow t^* = \sqrt{\frac{2 h f^i}{g}}$$

$$\Leftrightarrow t_i = 2 \sqrt{\frac{2 h f^i}{g}}$$

Finalmente T es que la pelota deje de botar es la suma de los t_i anteriores:

$$T = \sum_{i=0}^N t_i = \sum_{i=0}^N 2 \sqrt{\frac{2 h f^i}{g}} < \infty \quad \text{Para aminorarse: } (N \rightarrow \infty^+)$$

Sumar todas los t_i (notación)

1. N

Sumar todas los t_i (notación)

$$\sim \lim_{N \rightarrow \infty} \sum_{i=0}^N t_i \rightarrow \text{numero que va a ser } T < \infty$$

$$0, 1, 2, \dots, n, n+1, \dots, N, \dots, \infty \in \mathbb{N}$$

Es tal que los términos son nulos.
(Noción de convergencia).

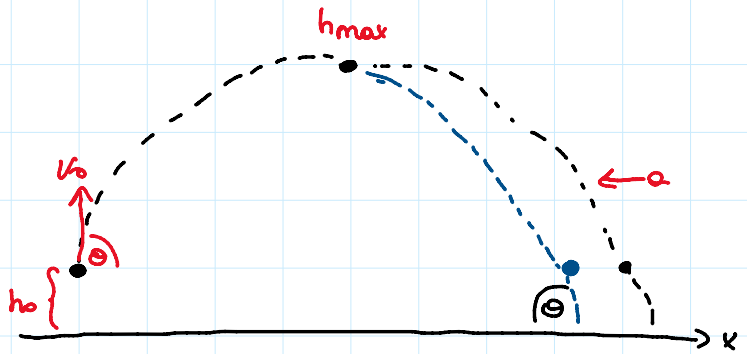
c) En cada ciclo, viaja $2hf^i$, $i \in \{0, \dots, N\}$

$$\Rightarrow \textcircled{D} = \sum_{i=0}^N 2hf^i$$

o bien, usando t_i , evaluando en $y_i(t_i)$, esto sería inevitable si nos dieran V_0 en vez de h .

P3. Control recuperativo 2019-1.

Un cuerpo es lanzado con rapidez de 25m/s , desde una altura inicial de 2m sobre el suelo, formando un ángulo de 30° con la horizontal. Mientras el cuerpo sube hasta el punto de altura máxima, está permanentemente sometido a la aceleración de gravedad terrestre $g \sim 10\text{m/s}^2$, pero una vez que comienza a bajar está sometido además a una segunda aceleración constante de frenado de magnitud 2m/s^2 , en dirección horizontal.



Conocemos V_0, h_0, θ :

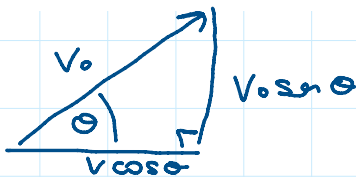
1. Calcule el tiempo que el cuerpo demora en llegar a la altura máxima. ✓
2. Calcule el tiempo que el cuerpo demora en caer. ✓
3. Calcule la distancia total recorrida por el cuerpo en la dirección horizontal, desde el punto de lanzamiento hasta el punto en que choca contra el suelo.
4. Calcule la magnitud de la velocidad del objeto justo antes que impacte contra el suelo.

1) Ecuación de itinerario:

$$x(t) = V_0 x t$$

$$y(t) = h_0 + V_0 y t - \frac{g t^2}{2}$$

donde $\vec{V}_0 = (V_0 \cos \theta, V_0 \sin \theta)$,
uego reemplazando:



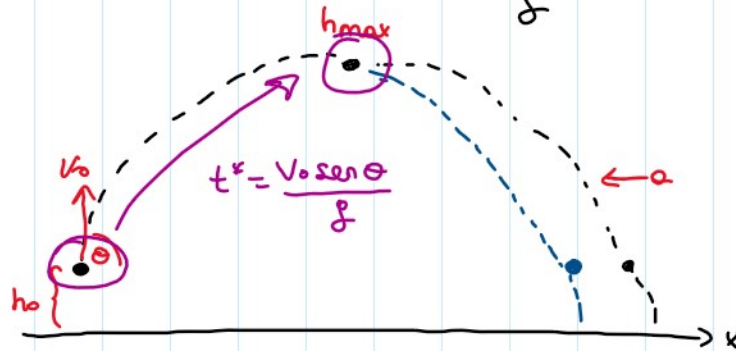
$$\Rightarrow \begin{aligned} x(t) &= V_0 \cos \theta t \\ y(t) &= h_0 + V_0 \sin \theta t - \frac{g t^2}{2} \end{aligned}$$

$$\Rightarrow \begin{aligned} V_x(t) &= V_0 \cos \theta \\ V_y(t) &= V_0 \sin \theta - g t \end{aligned}$$

- (1) }
 - (2) }
 - (3) }
 - (4) }
- Derivar no importa o de memoria.

Calcular t^* cuando $V_y(t^*) = 0$ $\rightarrow V_y = 0$ cuando la altura es máxima.
 usando (1) la igualo a cero,

luego $0 = \underline{V_0 \text{sen } \theta} - g t^* \Rightarrow t = \frac{V_0 \text{sen } \theta}{g}$



2) Calcular tiempo de caída, cuando $y(t^*) = 0$, luego por (2) igualamos a 0 se tiene que:

$$0 = h_0 + V_0 \text{sen } \theta t - \frac{g t^2}{2} \quad \left. \vphantom{0 = h_0 + V_0 \text{sen } \theta t - \frac{g t^2}{2}} \right\} \text{Función cuadrática en } t.$$

Recordemos que $t_{1,2} = \frac{-V_0 \text{sen } \theta \pm \sqrt{V_0^2 \text{sen}^2 \theta + \frac{4 h_0 g}{2}}}{-g}$

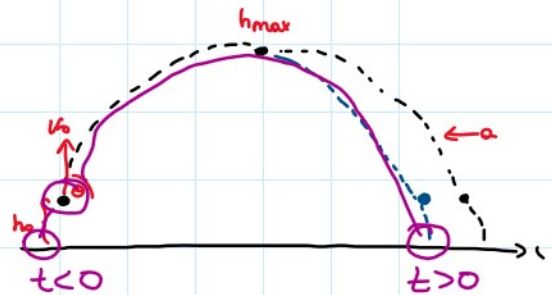
$$\Rightarrow t_{1,2} = \frac{V_0 \text{sen } \theta \pm \sqrt{V_0^2 \text{sen}^2 \theta + 2 h_0 g}}{g}$$

$$\frac{V_0 \text{sen } \theta}{g} > 0 \quad \wedge \quad \frac{\sqrt{V_0^2 \text{sen}^2 \theta + 2 h_0 g}}{g} > 0$$

me quedo con el (+).

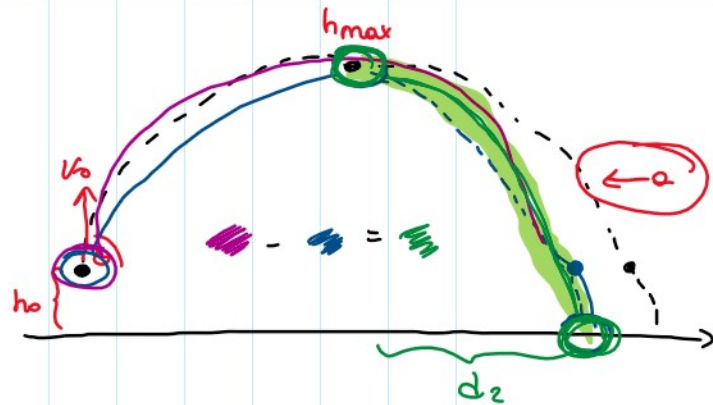
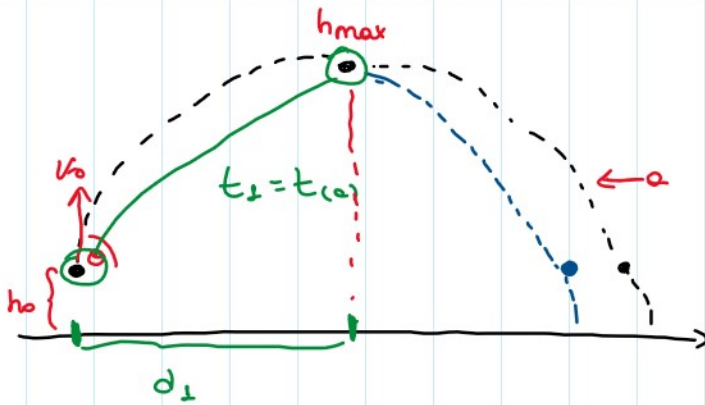
$$\Rightarrow t^* = \frac{V_0 \text{sen } \theta}{g} + \frac{\sqrt{V_0^2 \text{sen}^2 \theta + 2 h_0 g}}{g}$$

Obs: $\sqrt{V_0^2 \text{sen}^2 \theta} = V_0 \text{sen } \theta$
 $\Rightarrow \sqrt{V_0^2 \text{sen}^2 \theta + 2 h_0 g} > V_0 \text{sen } \theta$
 \Rightarrow Hay un $t^* > 0$ \wedge $t^* < 0$.



c) Usamos intervalos:





$$t_{cra} = \frac{v_0 \sin \theta}{g}$$

$$x(t) = v_0 \cos \theta t$$

Juntado se tiene que d_1 es:

$$d_1 = v_0 \cos \theta \cdot \frac{v_0 \sin \theta}{g}$$

$$\Rightarrow d_1 = \frac{v_0^2 \cos \theta \sin \theta}{g}$$

$$t(s) = \frac{v_0 \sin \theta}{g} + \frac{\sqrt{v_0^2 \sin^2 \theta + 2h_0 g}}{g} \quad (t \text{ en llegar al suelo})$$

$$\text{luego } t_2 = t(s) - t(c) = \frac{\sqrt{v_0^2 \sin^2 \theta + 2h_0 g}}{g}$$

desaceleración g

donde $x(t) = v_0 \cos \theta t - \frac{a t^2}{2}$ } En este tramo esto le g de direcciones cambia

$$\Rightarrow d_2 = v_0 \cos \theta \left(\frac{\sqrt{v_0^2 \sin^2 \theta + 2h_0 g}}{g} \right) - \frac{a (v_0^2 \sin^2 \theta + 2h_0 g)}{2 g^2}$$

finalmente $D = d_1 + d_2$

$$\Rightarrow D = \frac{v_0^2 \cos \theta \sin \theta}{g} + \left[v_0 \cos \theta \left(\frac{\sqrt{v_0^2 \sin^2 \theta + 2h_0 g}}{g} \right) - \frac{a (v_0^2 \sin^2 \theta + 2h_0 g)}{2 g^2} \right]$$

d) Calcular v_x en \hat{x} y en \hat{y} por separado.

$$v_x(t) = v_0 \cos \theta - a t \quad \text{en el tramo de bajada}$$

$$\Rightarrow v_{x\hat{x}} = v_0 \cos \theta - a \frac{\sqrt{v_0^2 \sin^2 \theta + 2h_0 g}}{g}$$

Por otro lado v_y esta dado por:

$$V_y(t) = v_0 \sin \theta - g t$$

$$\Rightarrow V_{yf} = v_0 \sin \theta - g \left(\frac{v_0 \sin \theta}{g} + \frac{\sqrt{v_0^2 \sin^2 \theta + 2 d \sin \theta}}{g} \right)$$

y sabemos que $\tan \theta = - \frac{V_{yf}}{V_{xf}} \Rightarrow \theta = \arctan \left(- \frac{V_{yf}}{V_{xf}} \right)$
se tiene \curvearrowright