

## Auxiliar 3

Profesor: Francisco Brieva

Auxiliares: Cristobal Moreno, Enrique Navarro, Matías Araya

23 de Septiembre 2020

### P1

Sea un péndulo simple que esta adjunto a un soporte que es forzado horizontalmente como se ve en la figura.

- Determine la posición de la masa del péndulo en dos dimensiones  $y - z$  como función del ángulo.
- Con lo anterior encuentre la ecuación de movimiento para el ángulo que forma el péndulo con la vertical  $\theta$ .
- Usando la aproximación de pequeñas oscilaciones y que el movimiento sinusoidal del soporte tiene la forma  $y_s = y_0 \cos \omega t$  encuentre la solución del problema. ¿Cuándo ocurre resonancia?

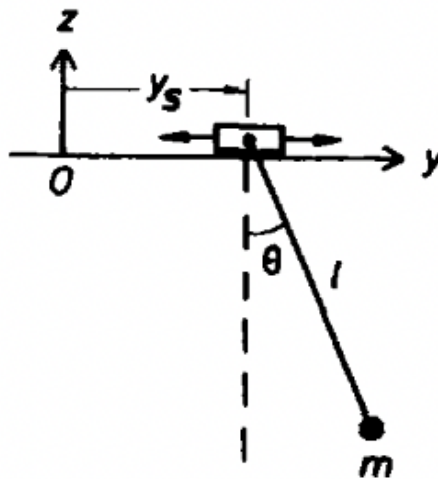


Figura 1: Péndulo problema 1.

## P2

Una pequeña esfera de densidad de masa por unidad de volumen constante ( $\rho_m$ ) y volumen  $V$  (su masa es  $M = \rho_m V$ ) está ligada al extremo de una barra rígida de largo  $L$  y masa despreciable. La barra pivotea (puede rotar en el plano vertical) en torno a un punto fijo de una estructura de soporte (figura). El sistema se sumerge en un volumen (grande) de agua con densidad de masa por unidad de volumen  $\rho_a$ . Se quiere estudiar el comportamiento del péndulo en el fluido cuando el agua está en movimiento. Usando el ángulo  $\theta$  que la barra del péndulo hace con la vertical para describir el movimiento y considerando las fuerzas de gravedad (de la tierra sobre la esfera), de empuje (del agua sobre la esfera) y de roce viscoso (debido al movimiento en el fluido) del tipo (donde  $c$  = coeficiente de roce viscoso).

$$F_{r-visc} = -c v_{relativa},$$

a) Determine la ecuación diferencial para la variable angular  $\theta$  que describe el movimiento cuando el agua tiene una velocidad  $\vec{v}_a = v_h \hat{x}$ .

- encuentre la posición de equilibrio estable del péndulo cuando  $\rho_m \approx \rho_a$ ;
- bajo qué condición oscilaría el péndulo al perturbarlo alrededor del equilibrio;
- determine la rapidez  $v_h$  del agua para que el amortiguamiento sea crítico.

b) Responda las mismas preguntas que en caso (a) si el agua tiene una velocidad  $\vec{v}_a = v_v \hat{y}$

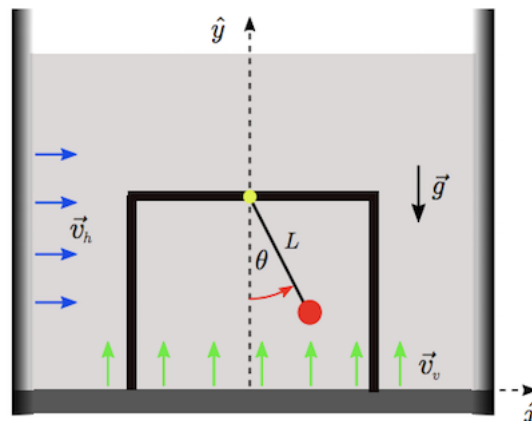


Figura 2: Péndulo problema 2.

### P3

Una partícula de masa  $m$  después de caer una distancia  $h$ , se adosa a un resorte (largo) de constante  $k$ . El sistema resultante viene gobernado por la ecuación de movimiento:

$$\ddot{z} + w_0 z + 2w_0 \dot{z}$$

donde la magnitud  $z(t)$  mide la posición de la partícula respecto al punto de equilibrio  $w_0 = \sqrt{\frac{k}{m}}$  es la frecuencia natural del sistema. La solución general esta dada por:

$$z(t) = (A + Bt)e^{-w_0 t}$$

- Determine  $A$  y  $B$  usando las condiciones iniciales.
- Sea  $t_0$  el instante en que el resorte tiene su máxima compresión. Evalúe  $t_0$  (Elija el cero del tiempo en el instante en que la partícula culisiona con el resorte).
- haga un gráfico esquemático de la función  $z(t)$ .

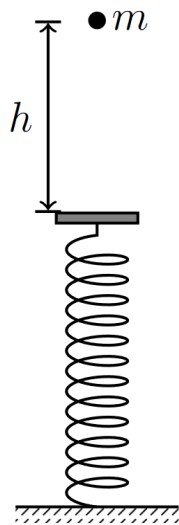


Figura 3: Sistema resorte-masa amortiguado.