

MA1002-1 Cálculo Diferencial e Integral

Profesor: Leonardo Sánchez C.

Auxiliar: Patricio Yáñez



Auxiliar 12: Aplicaciones de la Integral II

15 de noviembre de 2021

- Sea $f \in \mathcal{C}^1$, se tiene que la longitud de la curva f entre a y b , esta dada por la fórmula:

$$L_a^b(f) = \int_a^b \sqrt{1 + |f'(x)|^2} dx$$

- Sea $f \in \mathcal{C}^1$, el área del manto generado por la rotación en torno al eje OX de f entre a y b es:

$$S_{OX}(f) = \int_a^b 2\pi f(x) \sqrt{1 + |f'(x)|^2} dx$$

- Área en coordenadas polares:**
Sea $\rho : [\alpha, \beta] \rightarrow \mathbb{R}^+$ una función integrable, con $\beta - \alpha \leq 2\pi$ y que define una curva en coordenadas polares $\rho = \rho(\theta)$, entonces el área de la

región $R = \{(\rho \cos(\theta), \rho \sin(\theta)) : \theta \in [\alpha, \beta], \rho \in [0, \rho(\theta)]\}$ está dada por:

$$A = \frac{1}{2} \int_{\alpha}^{\beta} \rho(\theta)^2 d\theta$$

- Centro de gravedad:** Sea R la región encerrada bajo el gráfico de una función no negativa e integrable. Es decir $R = \{(x, y) \in \mathbb{R}^2; x \in [a, b], y \in [0, f(x)]\}$

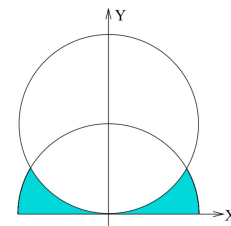
El centro de gravedad de R esta dado por

$$X_G = \frac{\int_a^b x f(x) dx}{\int_a^b f(x) dx}, \quad Y_G = \frac{\int_a^b \frac{f^2(x)}{2} dx}{\int_a^b f(x) dx}$$

- P1.** a) Sea $f : [0, \infty) \rightarrow \mathbb{R}$ tal que $f(0) = 0$ y la longitud de la curva $y = f(x)$ entre 0 y x es igual a $x^2 + 2x - f(x)$. Determine $f(x)$.

Para $r > 0$ se define la región \mathcal{R} por:

- b) $\mathcal{R} = \{(x, y) \in \mathbb{R}^2 : x^2 + y^2 \leq r^2, x^2 + y^2 - 2ry \geq 0, y \geq 0\}$
Calcule la superficie del sólido engendrado al rotar la región \mathcal{R} en torno al eje OX .



- P2.** Dibuje las siguientes curvas considerando $r = r(\theta)$

- | | | | |
|-----------------------|------------------------------|------------------------------------|------------------------------|
| a) $r = 2$ | c) $\theta = \frac{\pi}{6}$ | e) $r = \tan(\theta) \sec(\theta)$ | g) $r = \text{sen}(2\theta)$ |
| b) $r^2 - r - 12 = 0$ | d) $r = \frac{\theta}{2\pi}$ | f) $r = 2\cos(\theta)$ | h) $r = 1 + 2\sin(\theta)$ |

- P3.** a) Calcule el area que encierra la curva $\rho(\theta) = \text{sen}(2\theta)$.
b) Calcule el area encerrada entre las curvas $\rho_1(\theta) = \text{sen}(\theta)$ y $\rho_2(\theta) = 1 + \cos(\theta)$

- P4.** Se tiene una región fija de área A (generada a partir del área bajo la curva de una función f). Demuestre que el volumen de revolución en torno al eje OY y en torno al eje OX se calculan respectivamente como:

$$V_{OY} = 2\pi \cdot A \cdot X_G \quad \text{y} \quad V_{OX} = 2\pi \cdot A \cdot Y_G$$

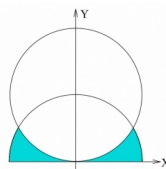
Donde X_G y Y_G son las coordenadas del centro de masa de la región A

P1. a) Sea $f : [0, \infty) \rightarrow \mathbb{R}$ tal que $f(0) = 0$ y la longitud de la curva $y = f(x)$ entre 0 y x es igual a $x^2 + 2x - f(x)$. Determine $f(x)$.

Para $r > 0$ se define la región \mathcal{R} por:

$$\mathcal{R} = \{(x, y) \in \mathbb{R}^2 : x^2 + y^2 \leq r^2, x^2 + y^2 - 2ry \geq 0, y \geq 0\}$$

b) Calcule la superficie del sólido engendrado al rotar la región \mathcal{R} en torno al eje OX .



fcfm

Ingeniería Matemática
FACULTAD DE CIENCIAS
FÍSICAS Y MATEMÁTICAS
UNIVERSIDAD DE CHILE

a) Tengo condición inicial $f(0) = 0$

$$L_a^b(f) = \int_a^b \sqrt{1 + |f'(x)|^2} dx$$

Nuestra misión
despejar $f(x)$

La longitud de 0 a x

$$= x^2 + 2x - f(x)$$

Aplicando la fórmula

$$L_0^x(f) = \int_0^x \sqrt{1 + |f'(x)|^2} dx = x^2 + 2x - f(x) \quad (1)$$

lo que usamos $\left(\int_{u(x)}^{v(x)} f(x) dx \right)' = f(v(x)) \cdot v'(x) - f(u(x)) \cdot u'(x)$

$$\int_0^x \sqrt{1 + |f'(x)|^2} dx = x^2 + 2x - f(x) \quad (1)$$

$$\sqrt{1 + |f'(x)|^2} \cdot (x)' - \sqrt{1 + |f'(x)|^2} \cdot 0' = 2x + 2 - f'(x)$$

$$\sqrt{1 + |f'(x)|^2} = (2x + 2 - f'(x)) / ()^2$$

$$1 + |f'(x)|^2 = 4x^2 + 4 + \cancel{f'(x)^2} + 8x - 4(f'(x) + f'(x)x)$$

$$f'(x) [4(1+x)] = 4x^2 + 3 + 8x$$

$$f'(x)[4(1+x)] = 4x^2 + 3 + 8x$$

$$f'(x) = \frac{4x^2 + 3 + 8x}{4x+4} = \frac{4x+4 + 4x+4 + 4x^2-4x-4}{4x+4}$$

$$f'(x) = 1 + \frac{4x^2 + 4x - 4}{4x+4}$$

$$f'(x) = 1 + \frac{4x(x+1)}{4(x+1)} - \frac{1}{4(x+1)}$$

$$f'(x) = 1 + x - \frac{1}{4(x+1)} \quad \int$$

$$f(x) = x + \frac{x^2}{2} - \frac{1}{4} \int \frac{1}{x+1} dx + C, \quad C \in \mathbb{R}$$

$$f(x) = x + \frac{x^2}{2} - \frac{1}{4} \ln(x+1) + C$$

$$* f(0) = 0$$

$$0 = 0 + \frac{0^2}{2} - \frac{1}{4} \ln(0+1) + C$$

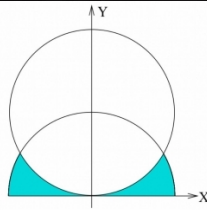
$$C = 0$$

$$\Rightarrow f(x) = x + \frac{x^2}{2} - \frac{1}{4} \ln(x+1)$$

Para $r > 0$ se define la región \mathcal{R} por:


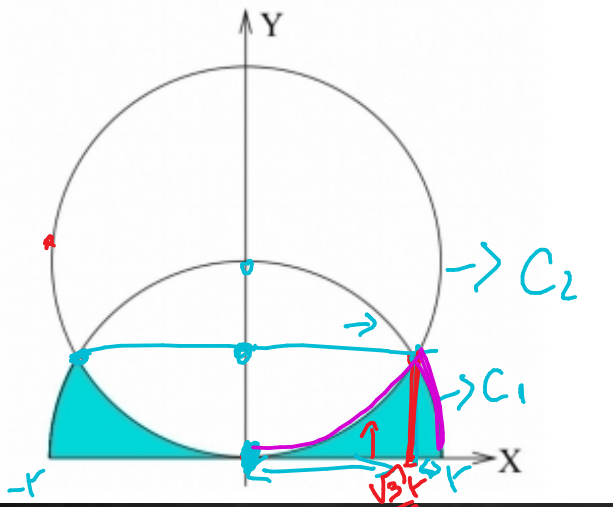
$$\mathcal{R} = \{(x, y) \in \mathbb{R}^2 : x^2 + y^2 \leq r^2, x^2 + y^2 - 2ry \geq 0, y \geq 0\}$$

b) Calcule la superficie del sólido engendrado al rotar la región \mathcal{R} en torno al eje OX .



fcfm

Ingeniería Matemática
FACULTAD DE CIENCIAS
FÍSICAS Y MATEMÁTICAS
UNIVERSIDAD DE CHILE



$$\bar{x} = \frac{\sqrt{3}}{2} t$$

$$C_1 \quad x^2 + y^2 \leq t^2$$

$$C_2 \quad x^2 + y^2 - 2ty \geq 0$$

$$x^2 + y^2 - 2ty + t^2 \geq t^2$$

$$x^2 + (y-t)^2 \geq t^2$$

$$x^2 + (y-t)^2 = x^2 + ((-1)(t-y))^2$$

$$\uparrow \quad \uparrow \quad x^2 + (t-y)^2$$

$$x^2 + y_1^2 = t^2$$

$$y_1 = -\sqrt{t^2 - x^2}$$

CURVA 1



$$x^2 + (y_2-t)^2 = t^2$$

$$y_2 = \pm \sqrt{t^2 - x^2} + t$$

CURVA 2



$$\sqrt{r^2 - x^2} = \sqrt{r^2 - x^2} + r$$

$$r=0$$

Este caso no me sirve

Después intento $\sqrt{r^2 - x^2} = -\sqrt{r^2 - x^2} + r$

$$\sqrt{r^2 - x^2} = \frac{r}{2} / (1)^2$$

$$r^2 - x^2 = \frac{r^2}{4}$$

$$\frac{4r^2}{4} - \frac{r^4}{4} = x^2 \Rightarrow \frac{3r^2}{4} = x^2$$

$$x = \pm \frac{\sqrt{3}}{2} r$$

$$S_{\text{ox}}(f) = 2\pi \int_a^b f(x) \sqrt{1 + |f'(x)|^2} dx$$

$$a < c < b$$

$$\int_a^b f(x) dx = \int_a^c f(x) dx + \int_c^b f(x) dx \quad *$$



$$S_{0X} = 2 \left[2\pi \int_0^{\frac{\sqrt{3}r}{2}} \underbrace{(r - \sqrt{r^2 - x^2})}_{|u|} \underbrace{\left(\sqrt{1 + \left| \frac{d}{dx} (r - \sqrt{r^2 - x^2}) \right|^2} \right)}_{\sqrt{1 + |f'(x)|^2}} dx \right] I_1$$
$$+ 2\pi \int_{\frac{\sqrt{3}r}{2}}^r \underbrace{\left(\sqrt{r^2 - x^2} \right)}_{|u|} \underbrace{\left(\sqrt{1 + \left| \frac{d}{dx} \left(\sqrt{r^2 - x^2} \right) \right|^2} \right)}_{\sqrt{1 + |f'(x)|^2}} dx \right] I_2$$

I₁ $(r - \sqrt{r^2 - x^2})' = -\frac{1 - 2x}{2\sqrt{r^2 - x^2}} = \frac{x}{\sqrt{r^2 - x^2}}$

lo que tengo $\sqrt{1 + \left(\frac{x}{\sqrt{r^2 - x^2}} \right)^2}$

$$= \sqrt{\frac{r^2 - x^2}{r^2 - x^2} + \frac{x^2}{r^2 - x^2}} = \sqrt{\frac{r^2}{r^2 - x^2}}$$

I.1

$$\int_0^{\frac{\sqrt{3}r}{2}} (t - \sqrt{t^2 - x^2}) \frac{t}{\sqrt{t^2 - x^2}} dx = \int_0^{\frac{\sqrt{3}r}{2}} \frac{t^2}{\sqrt{t^2 - x^2}} - t dx$$

$$= t^2 \int_0^{\frac{\sqrt{3}r}{2}} \frac{1}{\sqrt{t^2 - x^2}} - t \int_0^{\frac{\sqrt{3}r}{2}} dx$$

$$= t^2 \int_0^{\frac{\sqrt{3}r}{2}} \frac{1}{\sqrt{t^2 - x^2}} dx - \frac{\sqrt{3}t^2}{2}$$

$$\begin{aligned} \sin(\sin^{-1}(x)) &= x & / (1)' \\ \cos(\sin^{-1}(x)) \sin^{-1}(x)' &= 1 \\ \sin^{-1}(x)' &= \frac{1}{\cos(\sin^{-1}(x))} = \frac{1}{\sqrt{1-x^2}} \end{aligned}$$

$$\begin{aligned} c^2 + s^2 &= 1 \\ c(d) &= \sqrt{1-s^2(d)} \end{aligned}$$

$$= t^2 \operatorname{arcsin}\left(\frac{x}{t}\right) \Big|_0^{\frac{\sqrt{3}r}{2}} - \frac{\sqrt{3}}{2} t^2 = t^2 \left(\operatorname{arcsin}\left(\frac{\sqrt{3}}{2}\right) - \operatorname{arcsin}(0) \right) - \frac{\sqrt{3}}{2} t^2$$

$$= t^2 \frac{\pi}{3} - \frac{\sqrt{3}}{2} t^2 = I_1$$

$$\int_{\frac{\sqrt{3}r}{2}}^r \sqrt{r^2 - x^2} \left(\sqrt{1 + \left| \frac{1 - 2x}{2\sqrt{r^2 - x^2}} \right|^2} \right)^2 dx = I_2$$

$$\# \sqrt{1 + \left| \frac{1 - 2x}{2\sqrt{r^2 - x^2}} \right|^2} = \sqrt{\frac{r^2 - x^2}{r^2 - x^2} + \frac{x^2}{r^2 - x^2}}$$

$$= \sqrt{\frac{r^2}{r^2 - x^2}} = \frac{r}{\sqrt{r^2 - x^2}}$$

$$\int_{\frac{\sqrt{3}r}{2}}^r \frac{r}{\sqrt{r^2 - x^2}} dx = r \int_{\frac{\sqrt{3}r}{2}}^r \frac{1}{\sqrt{r^2 - x^2}} dx = r \left(1 - \frac{\sqrt{3}}{2} \right)$$

$$= r^2 - \frac{\sqrt{3}}{2} r^2 = I_1$$

$$S_{0x} = 2 \left[2\pi I_1 + 2\pi I_2 \right]$$

$$= 2 \left[2\pi r^2 \frac{\pi}{6} - 2\pi \frac{r^2 \sqrt{3}}{2} + 2\pi r^2 - 2\pi \frac{\sqrt{3}}{2} r^2 \right]$$

$$= 4\pi r^2 \left(\frac{\pi}{3} + 1 - \sqrt{3} \right)$$

P2. Dibuje las siguientes curvas considerando $r = r(\theta)$

a) $r = 2$

c) $\theta = \frac{\pi}{6}$

e) $r = \tan(\theta)\sec(\theta)$

g) $r = \sin(2\theta)$

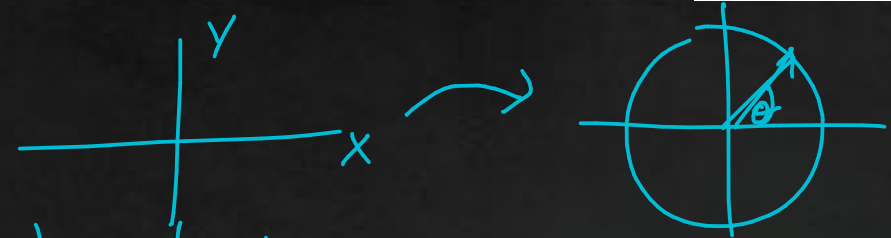
b) $r^2 - r - 12 = 0$

d) $r = \frac{\theta}{2\pi}$

f) $r = 2\cos(\theta)$

h) $r = 1 + 2\sin(\theta)$

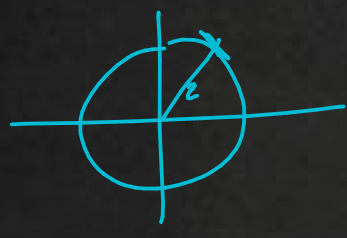
1) $x = r \cos(\theta)$
 2) $y = r \sin(\theta)$



$\frac{y}{x} = \frac{\sin(\theta)}{\cos(\theta)} = \tan(\theta)$
 $\arctan\left(\frac{y}{x}\right) = \theta$

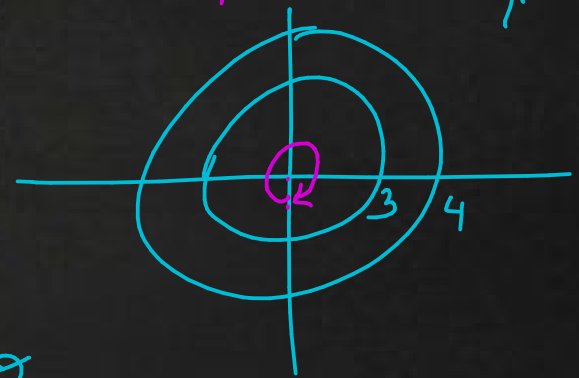
$r = \frac{x}{\cos(\theta)}$; $r = \frac{y}{\sin(\theta)}$
 Coordenadas polares

a) $r = 2$



b) $r^2 - r - 12 = 0$
 $(r+3)(r-4) = 0$

$r+3 = 0 \vee r-4 = 0$
 $r = -3 \vee r = 4$



c) $\theta = \frac{\pi}{6}$

r	θ
-1	$\frac{\pi}{6}$
0	$\frac{\pi}{6}$
1	$\frac{\pi}{6}$

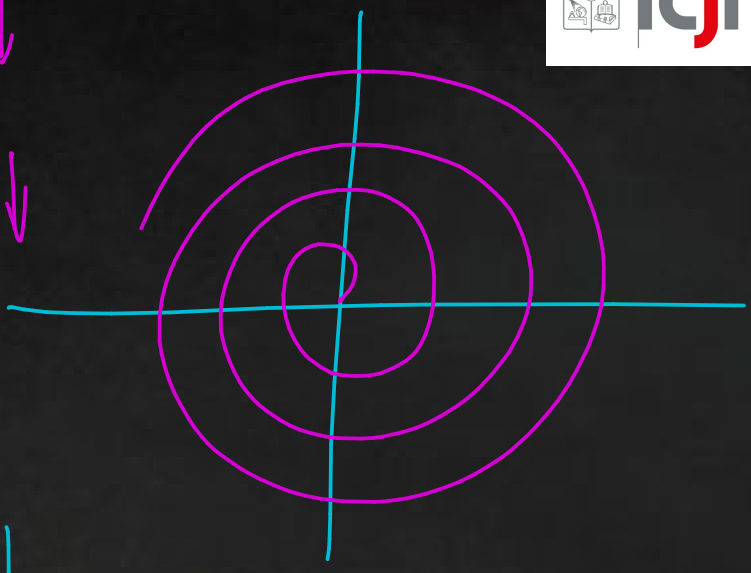


$$t = \frac{\theta}{2\pi}$$

↑ ↑

t	θ
0	0
1	2π
2	4π
1/4	π/2
1/2	π

$$r = r(\theta)$$



e) $r = \tan(\theta) \sec(\theta)$

$$r = \frac{\sin(\theta)}{\cos(\theta)} \frac{1}{\cos(\theta)} = \frac{\sin(\theta)}{\cos^2(\theta)} = r$$

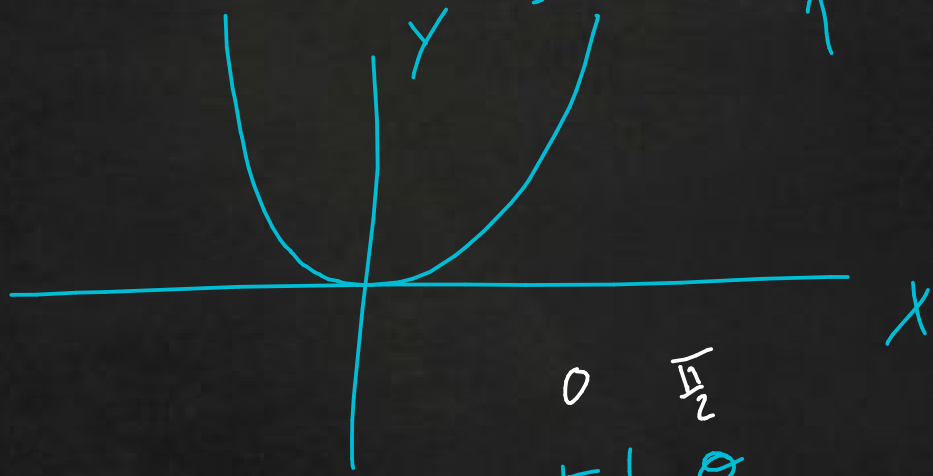
$$\Rightarrow \sin(\theta) = r \cos^2(\theta) \quad | \cdot r$$

$$r \sin(\theta) = r^2 \cos^2(\theta)$$

$y = x^2$
 ↑

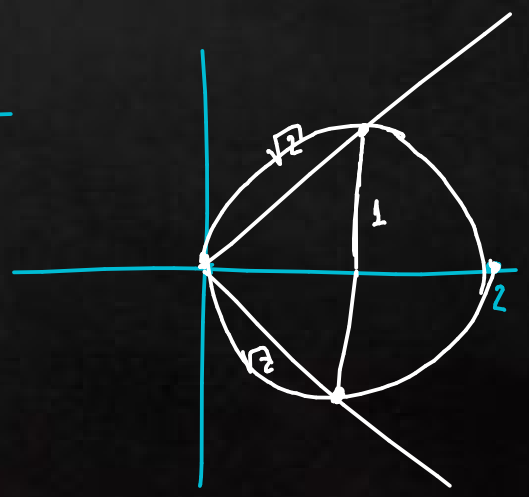
$$x = r \cos(\theta)$$

$$y = r \sin(\theta)$$

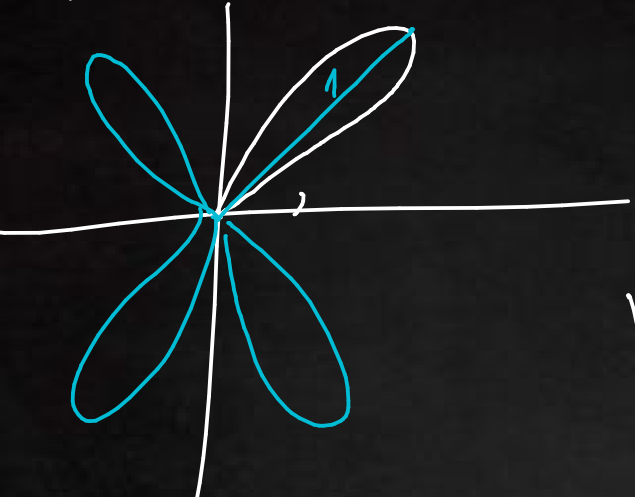


f) $r = 2 \cos(\theta)$

r	θ
2	0
√2	π/4
√2	3π/4
-2	5π/4
1	3π/2

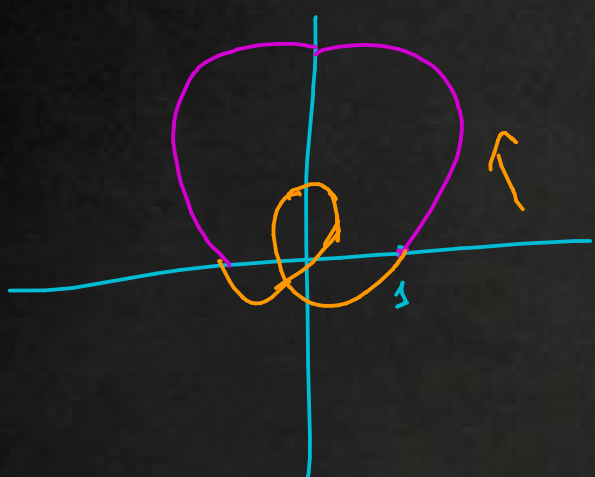


g) $r = 5 \cos(2\theta)$



r	θ
0	0
$\frac{5}{2}$	$\frac{\pi}{4}$
5	$\frac{\pi}{2}$
$\frac{5}{2}$	$\frac{3\pi}{4}$
0	π
$\frac{5}{2}$	$\frac{5\pi}{4}$
5	$\frac{3\pi}{2}$
$\frac{5}{2}$	$\frac{7\pi}{4}$
0	2π

h) $r = 1 + 2 \cos(\theta)$



r	θ
1	0
2	$\frac{\pi}{3}$
$2,41 \approx 1 + \sqrt{2}$	$\frac{\pi}{4}$
$2,73 \approx 1 + \sqrt{3}$	$\frac{\pi}{2}$
3	$\frac{2\pi}{3}$

$\cos(\theta) \approx \theta$

$r = 1 + 2 \cos(\theta)$

$r \approx 1 - 2\theta$

$-0,41 \approx 1 - \sqrt{2}$

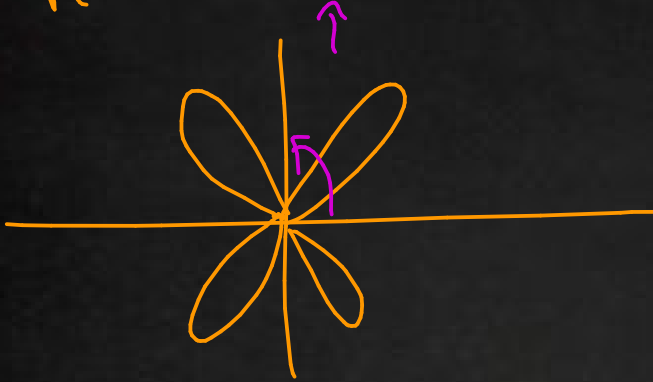
$-0,73 \approx 1 - \sqrt{3}$

r	θ
0	$-\frac{\pi}{6}$
$-0,41$	$-\frac{\pi}{4}$
$-0,73$	$-\frac{\pi}{3}$
-1	$-\frac{\pi}{2}$

P3)

$$A = \frac{1}{2} \int f^2(\theta) d\theta$$

a) $\rho(\theta) = 5\cos(2\theta)$



$$A = 4 \left(\frac{1}{2} \int_0^{\frac{\pi}{2}} 5\cos^2(2\theta) d\theta \right)$$

$$A = 2 \int_0^{\frac{\pi}{2}} \left(\frac{1}{2} - \frac{\cos(4\theta)}{2} \right) d\theta$$

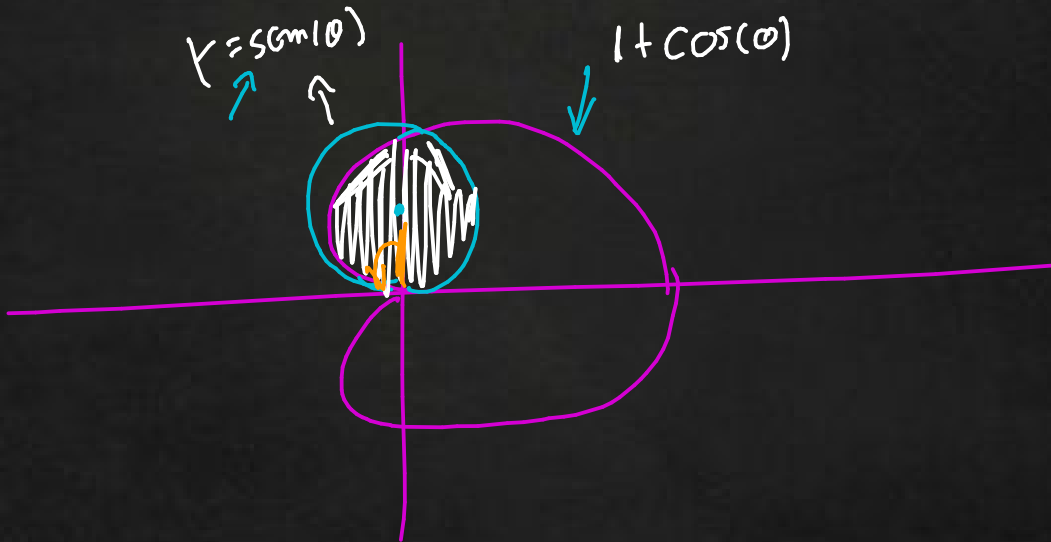
$$A = \frac{\pi}{2} - \frac{1}{4} 5\sin(4\theta) \Big|_0^{\frac{\pi}{2}}$$

$$A = \frac{\pi}{2} - \frac{1}{4} \cdot 0 - 0 = \frac{\pi}{2}$$

$$s^2(\theta) = \frac{1 - \cos(2\theta)}{2}$$

$$c^2(\theta) = \frac{1 + \cos(2\theta)}{2}$$

b)



$$A' = \text{me-dsa} + \text{Cardioid} = \frac{\pi}{2} + \dots$$

me-dsa
Circunferencia

Cardioid

$$\begin{aligned}
 D &= \frac{1}{2} \int_{\frac{\pi}{2}}^{\pi} P(\theta)^2 d\theta \\
 &= \frac{1}{2} \int_{\frac{\pi}{2}}^{\pi} (1 + \cos(\theta))^2 d\theta
 \end{aligned}$$

$$C^2(\theta) = \frac{1 + \cos(2\theta)}{2}$$

$$= \frac{1}{2} \int_{\frac{\pi}{2}}^{\pi} 1 + 2\cos(\theta) + \cos^2(\theta) d\theta$$

$$= \frac{1}{2} \int_{\frac{\pi}{2}}^{\pi} 1 + 2\cos(\theta) + \frac{1}{2} + \frac{\cos(2\theta)}{2} d\theta$$

$$= \frac{1}{2} \left(\pi - \frac{\pi}{2} + 2(\sin(\pi) - \sin(\frac{\pi}{2})) + \frac{1}{2}(\pi - \frac{\pi}{2}) + \frac{1}{2} \frac{(\sin(2\theta))}{2} \Big|_{\frac{\pi}{2}}^{\pi} \right)$$

$$= \frac{3\pi}{8} - 1$$

$$\Rightarrow A_T = D + A$$

$$= \frac{3\pi}{8} - 1 + \frac{\pi}{8} = \frac{\pi}{2} - 1 > 0$$

P41

$$A = \int_a^b f(x) dx$$

$$2\pi A \cdot X_G \quad \Leftarrow$$

$$\frac{2\pi \int_a^b f(x) dx \cdot \int_a^b x f(x) dx}{\int_a^b f(x) dx} = 2\pi \int_a^b x f(x) dx = V_{0y}$$

$$2\pi A \cdot X_G = 2\pi \int_a^b f(x) dx \cdot \frac{\int_a^b \frac{f(x)^2}{2} dx}{\int_a^b f(x) dx}$$
$$= \pi \int_a^b f(x)^2 dx = V_{0x}$$

Propuestos[Sección alterna]

1. Considere la región \mathcal{R} del primer cuadrante encerrada entre la elipse de ecuación $\frac{x^2}{4} + \frac{y^2}{16} = 1$ y la parábola de ecuación $y = (x - 2)^2$.
 - a) **Área**
Calcule el área de la región \mathcal{R} .
 - b) **Volumen de Revolución**
Calcule el volumen de revolución engendrado por \mathcal{R} al girar en torno al eje OX .

2. Considere la función $f(x) = \cosh(x) = \frac{e^x + e^{-x}}{2}$.
 - a) **Longitud de Curva**
Calcule la longitud de la curva definida por f en el intervalo $[0, 1]$.
 - b) **Área del Manto de Revolución**
Se define la región $\Omega = \{(x, y) \in \mathbb{R}^2 : x \in [0, 1], 0 \leq y \leq f(x)\}$. Calcule el área del manto del sólido generado al rotar la región Ω en torno al eje OX .
 - c) **Centro de Gravedad**
Calcule las coordenadas del centro de gravedad bajo la función f en la región Ω .

"The air was cold. Taylor"