

Trabajo Dirigido C3

Profesor: Matias Pavez Signe
 Auxiliares: Gisela Abarca Andereya,
 Ignacio Dagach Abugattas

Mucha suerte!!!!

Las preguntas no siguen un orden particular, pueden realizarlas según deseen.

P1. Para comenzar

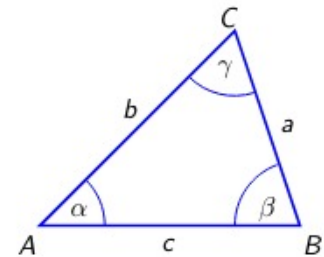
Resuelva las siguientes ecuaciones trigonométricas:

- | | |
|--|--|
| a) $1 - \cos(2x) + 3\cos(x) = 0$ | d) $\cos(2x) + \cos(4x) = 0$ |
| b) $4\sin\left(\frac{x}{4}\right) + 2\cos\left(\frac{x}{2}\right) = 3$ | e) $2\sin^2(x) - 5\sin(x) + 2 = 0$ |
| c) $\frac{\sin(2x)}{2} + \cos(2x) = \cos^2(x)$ | f) $\cos\left(\frac{x}{2}\right) - \cos(2x) = 0$ |
| | g) $\sin(x)(1 + \cos(2x)) = \cos(x)$ |

P2. Matraca

Considere el siguiente triángulo T de área A y demuestre que:

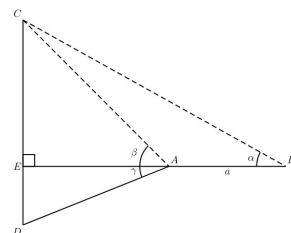
- $a^2 + b^2 + c^2 = 2ab\cos(\gamma) + 2accos(\beta) + 2bccos(\alpha)$
- Existe una constante $K \in \mathbb{R}$ que cumple que $A = \frac{1}{2}Kabc$
- $4A\left(\frac{\cos(\alpha)}{\sin(\alpha)} + \frac{\cos(\beta)}{\sin(\beta)} + \frac{\cos(\gamma)}{\sin(\gamma)}\right) = a^2 + b^2 + c^2$
- $a^2\sin(2\beta) + b^2\sin(2\alpha) = 2absin(\gamma)$



P3. De controles

Considere la siguiente imagen, donde $|AB| = a$, para demostrar que:

- $|CE| = \frac{a}{\cot(\alpha) - \cot(\beta)}$
- $|AE| = \frac{a}{\tan(\beta)\cot(\alpha) - 1}$
- $|ED| = |AE|\tan(\gamma)$

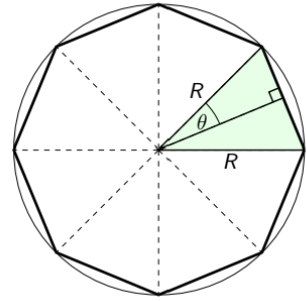


P4. Polígonos

Considere un polígono regular de n lados ($n \geq 3$) inscrito en una circunferencia de radio R , como el mostrado en la figura. Demuestre que el área de este polígono de n lados es:

$$A = nR^2 \operatorname{sen}\left(\frac{\pi}{n}\right)\operatorname{cos}\left(\frac{\pi}{n}\right)$$

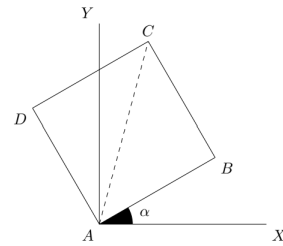
(Obs: La figura muestra solamente el caso particular $n = 8$)



P5. Coordenadas

El cuadrado $ABCD$ de la figura tiene el vértice A en el origen y su lado AB , de magnitud a , está inclinado con respecto al eje OX en un ángulo α . Determine en función de a y α las coordenadas de los vértices B y D y demuestre que la ecuación de la diagonal AC es:

$$AC : (\sin(\alpha) + \cos(\alpha))x + (\sin(\alpha) - \cos(\alpha))y = 0$$



P6. Rectas

Sean a y α reales fijos. Considere las rectas de ecuaciones:

$$\begin{aligned} L_1 &: (\sec(\alpha))x + (\operatorname{cosec}(\alpha))y = 2a \\ L_2 &: (\cos(\alpha))x - (\operatorname{sen}(\alpha))y = a\cos(2\alpha) \end{aligned}$$

Si d_1 es la distancia del origen a la recta L_1 y d_2 es la distancia del origen a la recta L_2 . Demostrar que $d_1^2 + d_2^2 = a^2$.

El conocimiento es y nos hará libres