



## Pauta Aux 16:

La ley de Maxwell nos dice:

$$\nabla \times \vec{B} = \mu \vec{J} + \mu \frac{\partial \vec{D}}{\partial t} : \text{Forma diferencial de } \vec{B} = \frac{\mu}{4\pi} \int \vec{I} dl \times (\vec{r} - \vec{r}')$$

$$\nabla \times \vec{B} = \mu \vec{J} + \mu \frac{\partial D}{\partial t} \Rightarrow \vec{B} = \frac{\mu}{4\pi} \int \vec{I} dl \times (\vec{r} - \vec{r}')$$

En estado estacionario:  $\frac{\partial \rho}{\partial t} = 0 \Rightarrow \frac{\partial \vec{D}}{\partial t} = 0$

$$\Rightarrow \nabla \times \vec{B} = \mu \vec{J}$$

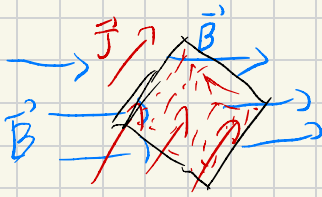
Cuando tenemos el rotor de un campo podemos usar el teorema de Stokes para simplificar los calculos

$$\oint_{2A} \vec{B} \cdot d\vec{l} = \iint_A (\nabla \times \vec{B}) \cdot d\vec{S} = \mu \iint_A \vec{J} \cdot d\vec{S} = \mu I$$

Para aplicar esta ley se debe definir una curva cerrada (2A) por la cual se hace la integral de linea del  $\vec{B}$ .

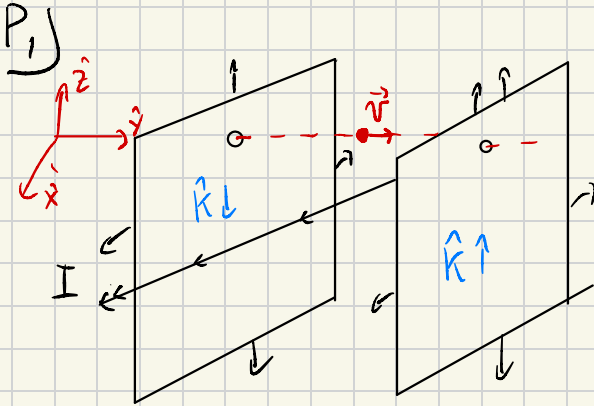
El area(A) contenida en la curva cerrada es la cual hay que analizar cuanta

corriente traspasa:



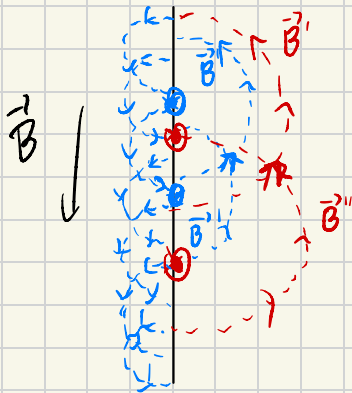
La suma de la componente de  $\vec{B}$  que recorre el contorno del cuadrado:  $\oint \vec{B} \cdot d\vec{l}$  Es igual al total de corriente que atraviesa el cuadrado:

$$\iint \vec{J} \cdot d\vec{S}$$

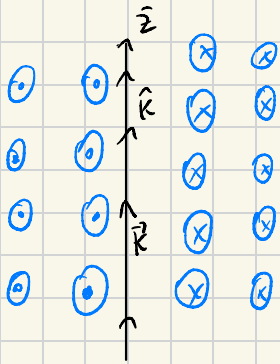


Para calcular el campo en los orificios, calcularemos el campo de cada uno de los conductores.

I. Placa infinita:

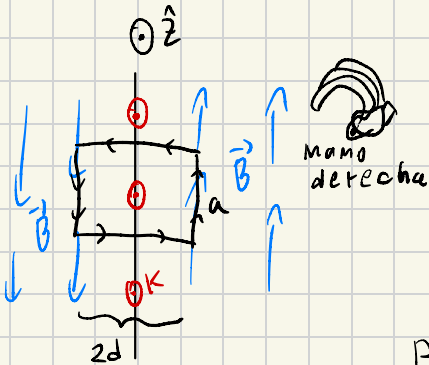


Notemos que en cualquier punto del espacio la componente normal a la placa del  $\vec{B}$  se anula con la corriente de otra sección de la placa. Con esto concluimos que solo hay campo en  $\hat{y}$



Por ley de la mano derecha podemos ver el sentido del campo

Ahora veamos la placa a travez del eje z.



tomemos la curva cerrada de un rectangulo con 2 lados de largo  $a$  paralelos al campo y 2 lados de largo  $2d$ , normales a la placa.

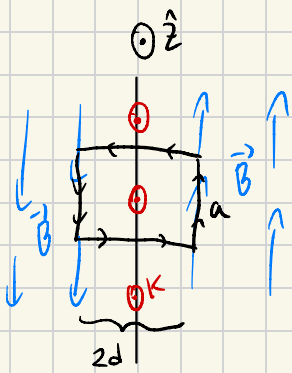
Por los datos ( $2d$ ) la integral de linea  $\int \vec{B} \cdot d\vec{l} = 0$  pues son perpendiculares al campo.

En los lados  $a$  la integral  $\int_{2a} \vec{B} \cdot d\vec{l} = 2aB(d)$

Es igual al largo de ambos lados por la magnitud del campo a una distancia  $d$  de la placa.

$$\oint \vec{B} \cdot d\vec{l} = \int_{2a} \vec{B} \cdot d\vec{l} + \int_{2a} \vec{B} \cdot d\vec{l} = 0 + 2aB(d)$$

Notemos que esto solo lo pudimos hacer pq al ser infinito sabemos que el campo es uniforme a una distancia  $d$ . Por Simetria, como cuando usabamos Gauss,



$$\oint \vec{B} \cdot d\vec{l}' = I\mu = 2aB(d)$$

Ahora calcularemos la corriente que atraviesa el rectángulo.

Este será la corriente sup. por el largo estudiado.

$$I = \int_a K dl = K \int_a dl = Ka$$

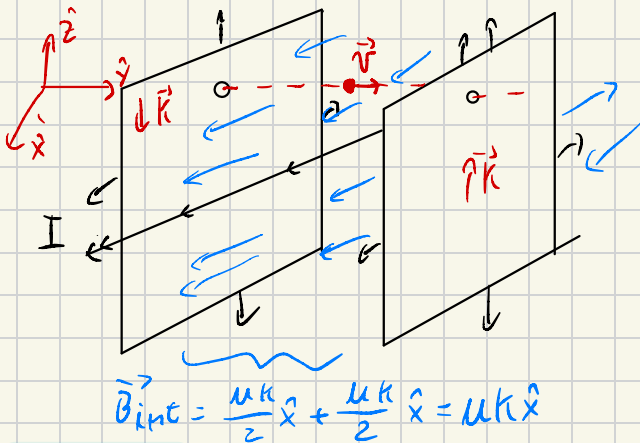
$$\Rightarrow \mu I = \mu Ka$$

$$\Rightarrow \oint \vec{B} \cdot d\vec{l} = \mu I = 2aB(d) = \mu Ka$$

$$B(d) = \frac{\mu K}{2}$$

Sabemos por ley de mano derecha los sentido.

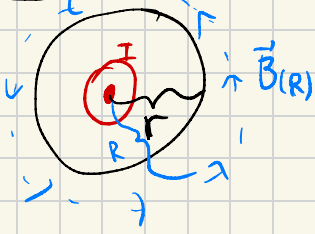
Notemos que el  $B(d)$  es independiente del  $d$ . Esto nos dice que el campo es constante en todo el espacio.



$$B_{ext} = \left( \frac{\mu K}{2} - \frac{\mu K}{2} \right) \hat{x} = 0$$

$$\vec{B}_{int} = \frac{\mu K}{2} \hat{x} + \frac{\mu K}{2} \hat{x} = \mu K \hat{x}$$

II El cable: Tomemos la curva cerrada el círculo con centro el cable. Por simetría podemos decir que el campo en el contorno del círculo es de magnitud cte.

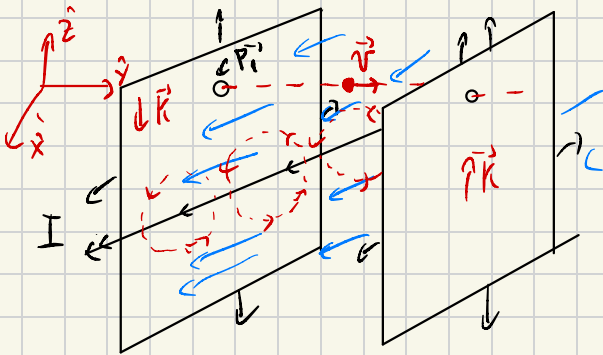


$$\Rightarrow \oint \vec{B}(r) \cdot d\vec{l} = B(r) \oint dl = B(r) 2\pi r$$

$$\neq I_{enc} = \iint \vec{j} \cdot d\vec{s}$$

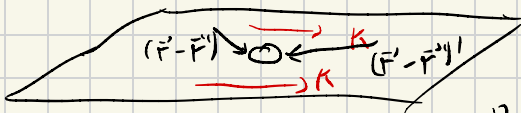
ley Ampere  $\oint \vec{B} \cdot d\vec{l} = \mu_0 I = B(r) 2\pi r$

$$\Rightarrow \vec{B}(r) = \frac{\mu_0 I}{2\pi r} \hat{\phi}$$



Para sacar el  $\vec{B}$  en los orificios tendremos que sumar los campos de los 3 conductores en ese punto

Calculemos  $\vec{B}(P_1)$  con  $P_1$  posicionado uno de los agujeros.



El campo en  $P_1$  producido por la placa donde está el agujero es 0 pues  $\vec{r}$  y  $(\vec{r}-\vec{r}')$  están

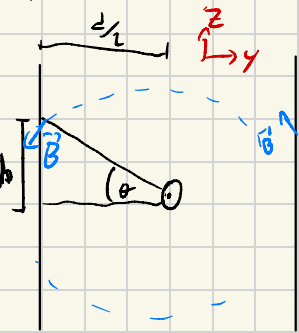
el mismo plano por lo que solo queda la componente normal del campo que vimos que se cancelaba por geometría

$$\vec{B} = \frac{\mu_0}{4\pi} \int \vec{K} dA \times (\vec{r} - \vec{r}') = \vec{B} = \frac{\mu_0 K}{4\pi} \iint dA (\vec{r} - \vec{r}') \hat{z} = 0$$

La contribución de la otra placa es

$$\vec{B}_{\text{placa 2}}^{(P_1)} = \frac{\mu_0 K}{2} \hat{x}$$

y del cable es  $\vec{B}_{\text{cable}}^{(P_1)} = \frac{\mu_0 I}{2\pi r}$



$$\sigma = \tan^{-1}\left(\frac{h}{\frac{d}{2}}\right) \quad r = \sqrt{\frac{d^2}{4} + h^2}$$

$$\vec{B}_{\text{cable}} = \frac{\mu_0 I}{2\pi r} (-\sin(\theta) \hat{y} - \cos(\theta) \hat{z})$$

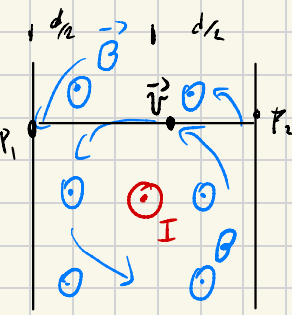
$$\vec{B}_{(P_1)} = \frac{\mu_0 K}{2} \hat{x} - \frac{\mu_0 I}{2\pi \sqrt{\frac{d^2}{4} + h^2}} (\sin(\theta) \hat{y} + \cos(\theta) \hat{z})$$

Por simetría  $\vec{B}_{(P_2)} = \frac{\mu_0 K}{2} \hat{x} + \frac{\mu_0 I}{2\pi \sqrt{\frac{d^2}{4} + h^2}} (-\sin(\theta) \hat{y} + \cos(\theta) \hat{z})$

$P_2$  = posición del otro agujero

b) Calcule el trabajo del  $\vec{B}$  sobre la partícula

$\vec{F} = q\vec{v} \times \vec{B}$  por definición de producto cruz la fuerza sera perpendicular tanto a  $\vec{B}$  como a  $\vec{v}$



Sabemos que el trabajo es la integral de linea de la fuerza por la trayectoria del cuerpo

$$W = \int_{-d/2}^{d/2} F_{xz} \cdot dy = \int_{-d/2}^{d/2} 0 = 0$$

El trabajo del campo magnetico sobre la carga puntual es 0.







