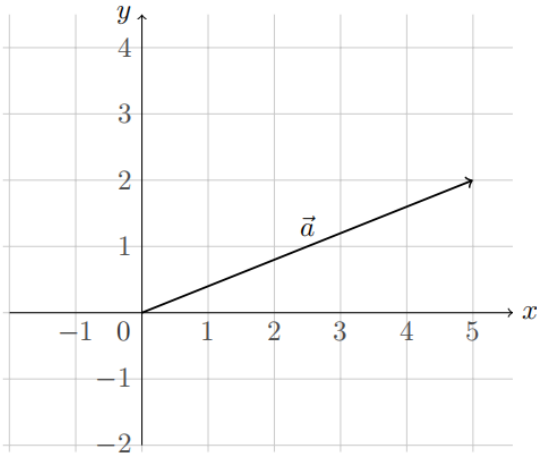


Soluciones Actividad Autónoma 3
VECTORES

1. Dibujar los siguientes vectores, calcular su módulo y su dirección:

a) $\vec{a} = (5,2)$



Modulo:

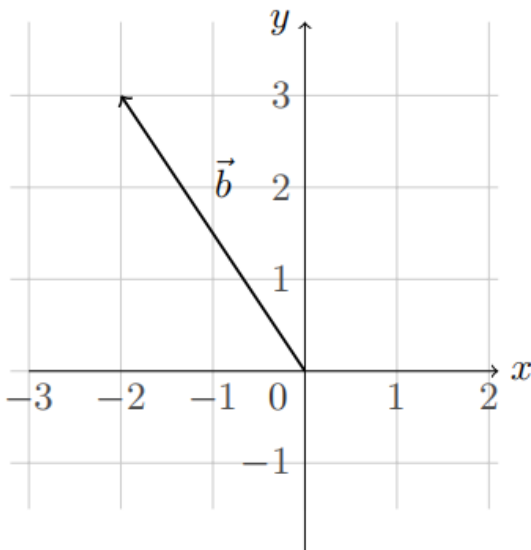
$$|\vec{a}| = \sqrt{5^2 + 2^2} = \sqrt{29}$$

Dirección:

$$\alpha = \arctan\left(\frac{2}{5}\right)$$

$$\alpha \approx 21,8^\circ$$

b) $\vec{b} = (-2,3)$



Modulo:

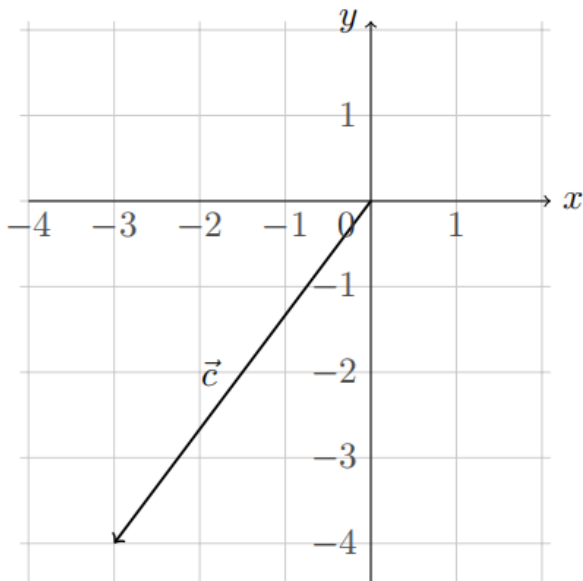
$$|\vec{b}| = \sqrt{(-2)^2 + 3^2} = \sqrt{13}$$

Dirección:

$$\alpha = 180^\circ + \tan^{-1}\left(\frac{3}{-2}\right)$$

$$\alpha \approx 123,7^\circ$$

c) $\vec{c} = (-3, -4)$



Módulo:

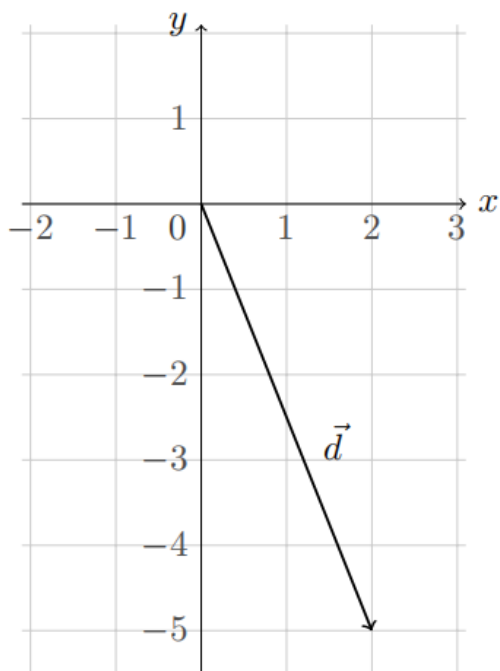
$$|\vec{c}| = \sqrt{(-3)^2 + (-4)^2} = 5$$

Dirección:

$$\alpha = 180^\circ + \tan^{-1}\left(\frac{-4}{-3}\right)$$

$$\alpha \approx 233,13^\circ$$

d) $\vec{d} = (2, -5)$



Módulo:

$$|\vec{d}| = \sqrt{(2)^2 + (-5)^2} = \sqrt{29}$$

Dirección:

$$\alpha = 360^\circ + \tan^{-1}\left(\frac{-5}{2}\right)$$

$$\alpha \approx 291,8^\circ$$

2. Para los vectores del ejercicio 1, calcular:

a) $\vec{a} + \vec{b} = (3,5)$

b) $\vec{b} - \vec{c} = (1,7)$

c) $\vec{b} + \vec{c} = (-5, -1)$

d) $|\vec{a} + \vec{b} + \vec{c}| = 1$

e) $|\vec{a}| + |\vec{b}| + |\vec{c}| = 5 + \sqrt{29} + \sqrt{13}$

f) $\vec{a} \cdot (\vec{a} + \vec{b}) = -19$

3. Encontrar un vector unitario que tenga la misma dirección:

a) $\left(\frac{8}{\sqrt{89}}, \frac{5}{\sqrt{89}}\right)$

b) $\left(\frac{3}{\sqrt{10}}, \frac{-1}{\sqrt{10}}\right)$

c) $\left(\frac{11}{\sqrt{137}}, \frac{4}{\sqrt{137}}\right)$

d) $(1,0)$

4. Calcular un vector de tal manera que su módulo sea un tercio de la norma del vector \vec{AB}

a) $\frac{1}{3} \cdot \vec{AB} = \left(0, -\frac{2}{3}\right)$

b) $\frac{1}{3} \cdot \vec{AB} = \left(-1, -\frac{1}{3}\right)$

5. $|\vec{a} + \vec{b}| = \sqrt{129}$ y $|\vec{a} - \vec{b}| = 7$

6. $|\vec{b}| \approx 5,8$

7. El desplazamiento es de aproximadamente 48,22 km en dirección aproximada de $38,95^\circ$ al noroeste. (Equivalente a decir una dirección de $128,95^\circ$)

8. *Horizontal:* $\sum F_x = 10 \cos(37^\circ) - 10 \text{ N}$
Vertical: $\sum F_y = 10 \sin(37^\circ) - 10 \text{ N}$

9. Las componentes máximas serán $(5 \cos(35^\circ), 5 \sin(35^\circ)) \approx (4.10, 2.87)$

10. $|\vec{F}_c| \approx 118,34 \text{ [N]}$